




\* 3 C A V 1 \*

3 C A V 1



↑  
供內部職員使用

教育局  
2009 年 全港性系統評估  
小學三年級  
中國語文  
閱讀及聆聽——視聽資訊評估

學生須知：

1. 本卷共有 8 頁，全部題目均須作答，評估時限約 15 分鐘。
2. 必須在答題簿內的適當位置作答。
3. 不得在框線以外書寫任何文字、符號。
4. 在下面方格內填寫學校編號、班別及班號。

作答說明：

選擇題 - 選出正確的答案，並用 **HB 鉛筆** 把選項的圓圈塗黑和塗滿。如：

例子(一)：  
(四選一)

A  
 B  
 C  
 D

例子(二)：  
(五選二)

A  
 B  
 C  
 D  
 E

例子(三)：  
(六選二)

A       B  
 C       D  
 E       F

學校編號

□ □ □

班別

3 □

班號

□ □

↑  
此格只許填寫一  
個大楷英文字母

## 第一部分

請細心觀看短片(一)，然後回答第 1—3 題。

1. 康樂及文化事務署設立水上活動中心的目的是  
(請選擇**兩個**答案)

- A. 提高市民水上運動的安全意識。
- B. 為市民提供不同類型的活動。
- C. 提升市民水上運動的技術。
- D. 讓市民親身感受水上運動的樂趣。
- E. 使香港成為國際知名的水上活動中心。

2. 根據短片內容，全港共有多少個水上活動中心？

- A. 2 個。
- B. 3 個。
- C. 4 個。
- D. 5 個。


請勿在此書寫。

請勿在此書寫。

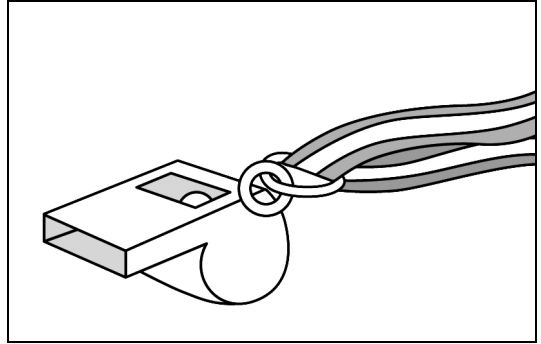
供內部職員使用 →



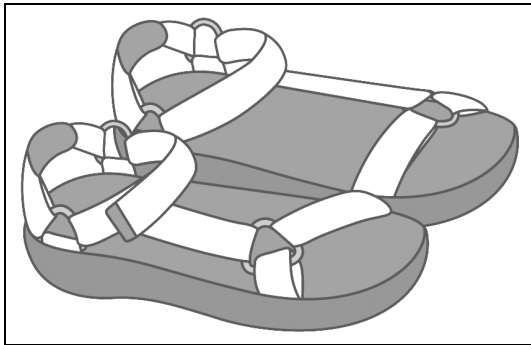
3. 參加水上活動的學員必須配備以下哪**兩項**裝備？  
(請選擇**兩個**答案)



A



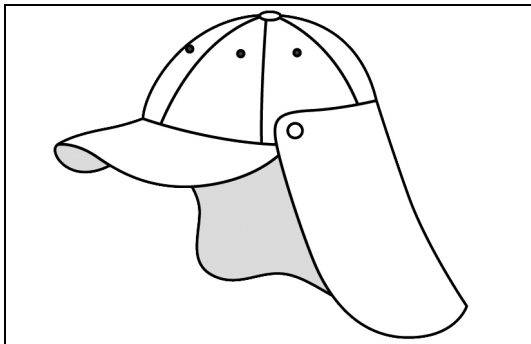
B



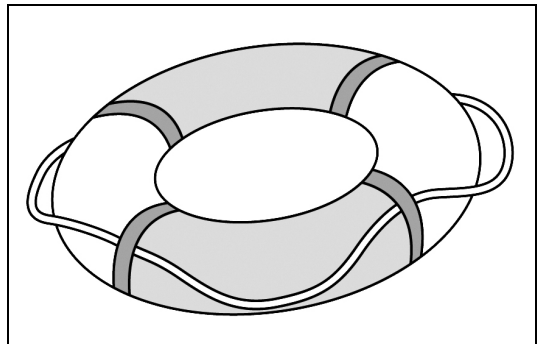
C



D



E



F

請勿在此書寫。

請勿在此書寫。


## 第二部分

請細心觀看短片(二)，然後回答第4—7題。


4. 創興水上活動中心位於什麼地方？

- A. 城門水塘。
- B. 西貢鄧肇堅運動場。
- C. 創興人工湖。
- D. 西貢郊野公園。


5. 下列哪一幅圖畫**不是**創興水上活動中心提供的活動？




A



B



C



D

請勿在此書寫。

請勿在此書寫。

6. 根據短片內容，為什麼香港東面海岸出現「海蝕洞」？

- A. 因為政府不斷開發海岸的天然資源。
- B. 因為長時間受海浪侵蝕。
- C. 因為長年累月受酸雨影響。
- D. 因為發展歷奇景點而改變了海岸面貌。

7. 短片最後部分為創興水上活動中心提供哪一項資訊？

- A. 查詢電話。
- B. 開放時間。
- C. 各種交通工具。
- D. 網址及各種交通工具。

### 第三部分

請細心觀看短片(三)，然後回答第 8—12 題。

8. 下列哪一項符合短片內容？

- A. 郊野公園正面臨逐漸消失的危機。
- B. 香港大約有半年的時間容易發生山火。
- C. 滅火隊每天最少執行七次撲滅山火的任務。
- D. 消防隊在瞭望台等候執行任務。

9. 根據短片內容，下列哪一項**不是**山火中心職員的工作？

- A. 接收山火報告。
- B. 通知有關部門山火的位置。
- C. 分發滅火設備。
- D. 在地圖上留下適當標記。

請勿在此書寫。

請勿在此書寫。

10. 根據短片內容，下列哪一幅圖畫是引起山火的主要原因？




A



B



C

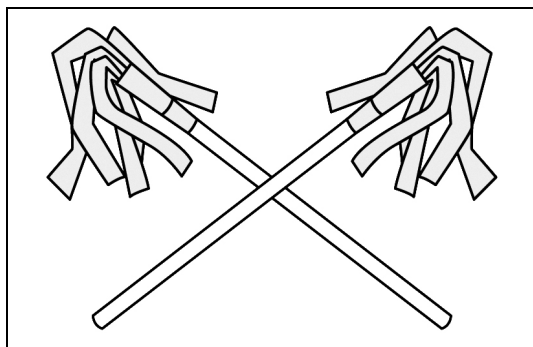


D


請勿在此書寫。

請勿在此書寫。

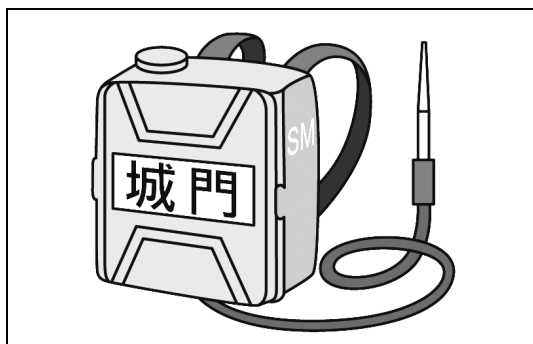
11. 根據短片畫面，下列哪一幅圖畫顯示的**不是**撲滅山火的用具？



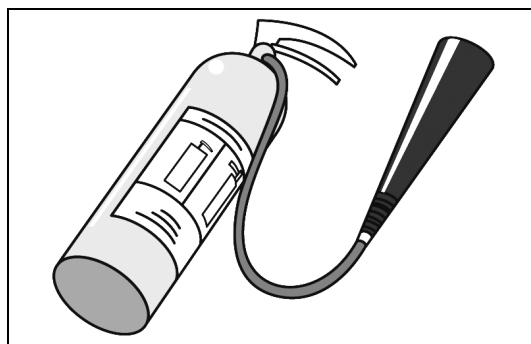
A



B



C



D

12. 根據短片內容，山火最大的害處是

- A. 使美麗的環境變得醜陋。
- B. 加重山火中心和滅火隊的工作負擔。
- C. 破壞郊野公園的設施。
- D. 使野生動物失去生活的依靠。

— 全卷完 —