

* 3 M C 2 *

3	M	C	2
---	---	---	---

↑
請把電腦條碼貼在方格內

教育局
2009 年 全港性系統評估
小學三年級
數學

學生須知：

1. 在第 1、3、5、7 及 9 頁的適當位置貼上電腦條碼。
2. 全卷共有 38 題，全部題目均須作答。
3. 評估時限為 40 分鐘。
4. 答案必須書寫在答題簿中適當的位置內。
5. 不得在框線以外書寫任何文字、符號。
6. 不得使用計算機。
7. 算草應做在草稿紙上。
8. 在下面方格內填寫學校編號、班別及班號。

作答說明：

(a) 選擇題 - 選出正確的答案，並用 **HB** 鉛筆把該選項的圓圈塗黑和塗滿。如：

- A
- B
- C
- D

(b) 列式計算題 - 在方格內列寫橫式、答案、文字解說或題解，但毋須列寫算草。

(c) 其他類型題目 - 依題目的指示，在適當的位置作答。

學校編號

--	--	--

班別

3	
---	--

班號

--	--

↑
此格只許填寫一個大楷英文字母

請把電腦條碼貼在方格內 →



請勿在此書寫。

4. $128 + 469 =$ _____

5. $792 - 353 - 175 =$ _____

6. $316 \times 6 =$ _____

7. 以下哪一項是正確的？

A.
$$\begin{array}{r} 3 \overline{)315} \\ \underline{15} \end{array}$$

B.
$$\begin{array}{r} 3 \overline{)315} \\ \underline{105} \end{array}$$

C.
$$\begin{array}{r} 3 \overline{)315} \\ \underline{15} \end{array}$$

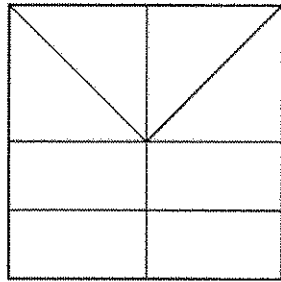
D.
$$\begin{array}{r} 3 \overline{)315} \\ \underline{150} \end{array}$$

8. $874 \div 6 =$ _____

9. $511 - 263 + 152 =$ _____

請勿在此書寫。

10. 用鉛筆把下圖的四分之一塗上陰影。



11.



弟弟有 21 枚郵票，他把 $\frac{4}{7}$ 送了給妹妹，
弟弟還有郵票多少枚？

- A. 3 枚
- B. 7 枚
- C. 9 枚
- D. 12 枚


12. 媽媽買了一罐售



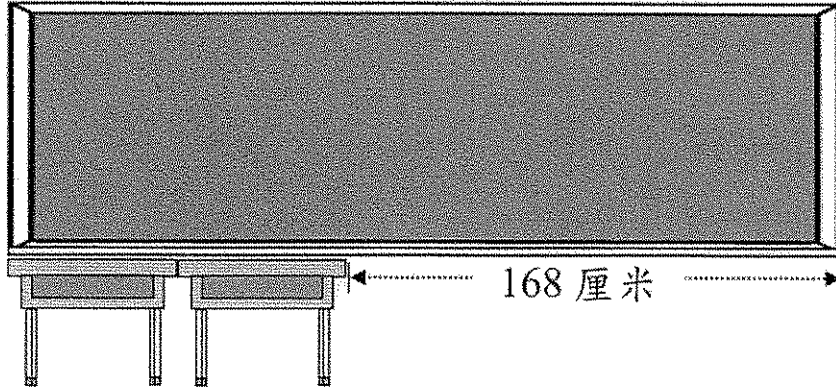
的奶粉。付款 200 元，應找回多少？

答案：應找回 _____ 元 _____ 角。

請把電腦條碼貼在方格內



13.

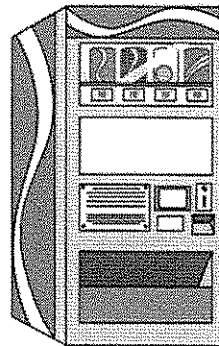


一張書桌長 56 厘米，黑板長多少？

- A. 56 厘米
- B. 112 厘米
- C. 224 厘米
- D. 280 厘米

14. 自動售賣機內有汽水 45 罐。現多放 5 打汽水。自動售賣機內共有汽水多少罐？

- A. 9 罐
- B. 50 罐
- C. 105 罐
- D. 225 罐



請勿在此書寫。

請勿在此書寫。

15. 一部小童單車售 688 元，一盒積木比一部小童單車便宜 389 元。偉倫買一盒積木，付款 500 元，應找回多少？

答案：應找回 _____ 元。


16. 媽媽把 4 盒清雞湯倒進煲內。每盒清雞湯有 411 毫升。煲內共有清雞湯 _____ 毫升。

17. 籃球隊有 9 名新隊員要購買球衣。每人付 \$170.00，其餘由學校資助。學校共資助款項多少？
(列式計算)


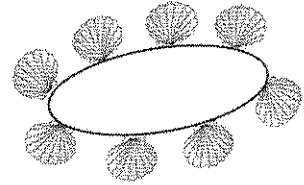


\$283.00

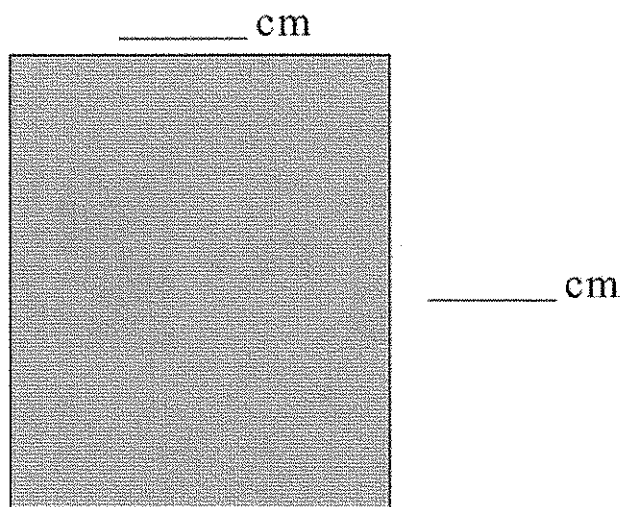
請把電腦條碼貼在方格內 →



18. 學生在課後活動堂做貝殼手鐲。
每個手鐲要用貝殼 8 粒。現有貝殼
206 粒，最多可做貝殼手鐲多少個？
(列式計算)



19. 圖中長方形的闊度和長度是多少？



請勿在此書寫。



請勿在此書寫。






20. 填上適當的長度單位：

- (a) 一張書桌約高 60 _____。
- (b) 香港與北京的距離大約是 2000 _____。
- (c) 畢架山的高度是 458 _____。
- (d) 一張八達通卡的闊度是 54 _____。


21.

(a) 一張  可換得  _____ 個。

(b) 一個  和一個  共可換得  _____ 個。

(c) 30 張  可換得  _____ 張。

請把電腦條碼貼在方格內 →



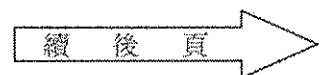
22. 使用以下二月份的月曆回答下列問題。

二月						
星期日	星期一	星期二	星期三	星期四	星期五	星期六
		1	2	3	4	5
6	7	8	9	10	11	12
13	14	15	16	17	18	19
20	21	22	23	24	25	26
27	28	29				


- (a) 這年全年共有 _____ 日。
• •
- (b) 慧慧在二月十八日往宿營三天。
宿營的最後一天是 _____ 月 _____ 日。
- (c) 這年的農曆年初一在二月的第二個星期二。
農曆年初三在 _____ 月 _____ 日。
• • •

請勿在此書寫。

請勿在此書寫。



23.



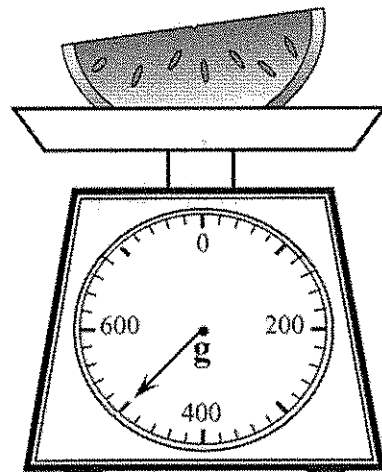

數字鐘顯示的時間是

_____ 午 _____ 時 _____ 分。

24. 跳繩班在下午 3 時 45 分開始，為時 35 分鐘。
跳繩班在下午哪時結束？

答案：跳繩班在下午 _____ 時 _____ 分結束。

25.




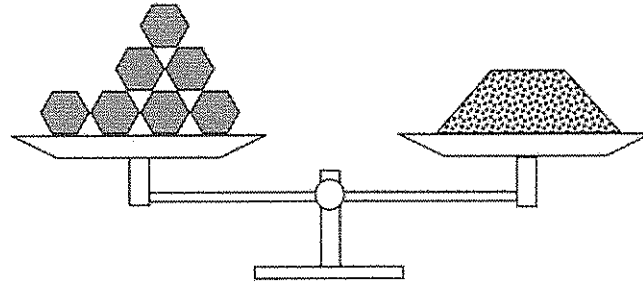
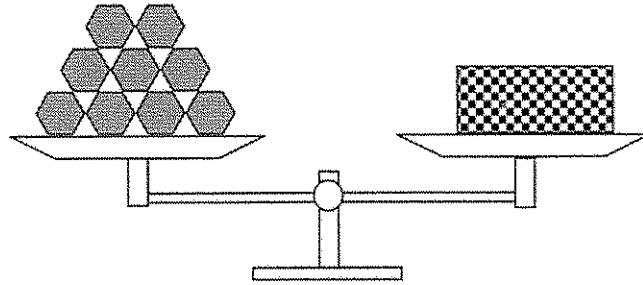
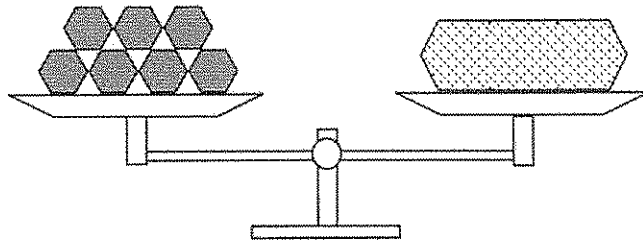
較重的是 *  /  (* 圈出答案)；

它比另一種水果重 _____ g。








請勿在此書寫。

請勿在此書寫。

26. 小美用  作為量度單位，量度三個物件的重量：



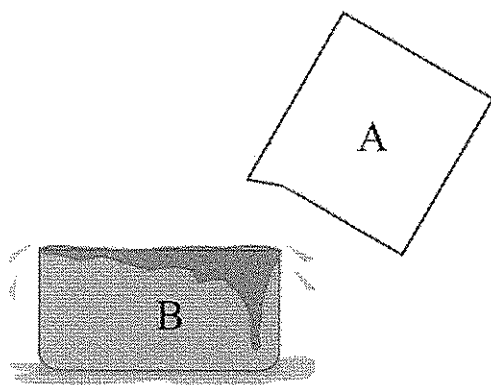
以下哪一項是對的？

- A.  最輕。
- B.  與  的重量相等。
- C.  比  重。
- D.  與  的重量相等。

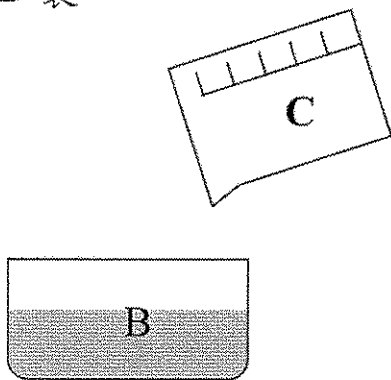
請勿在此書寫。

請勿在此書寫。

27. 在圖中，容器 A 注滿了水，然後把全部水倒進容器 B 裏。



倒走容器 B 裏的水後，再把容器 C 注滿水，然後把全部水倒進容器 B 裏。



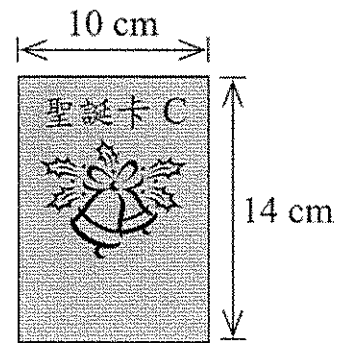
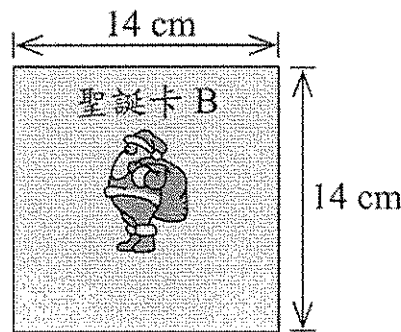
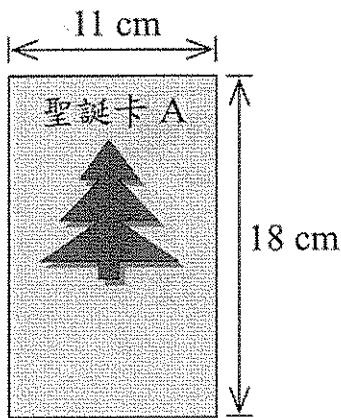
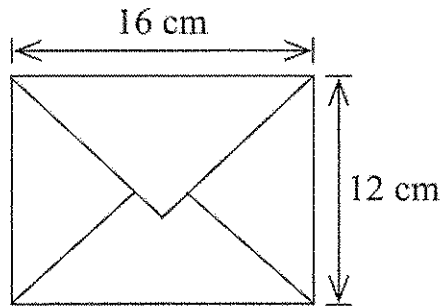
容器 _____ 的容量最大；

容器 _____ 的容量最小。

請勿在此書寫。

請勿在此書寫。

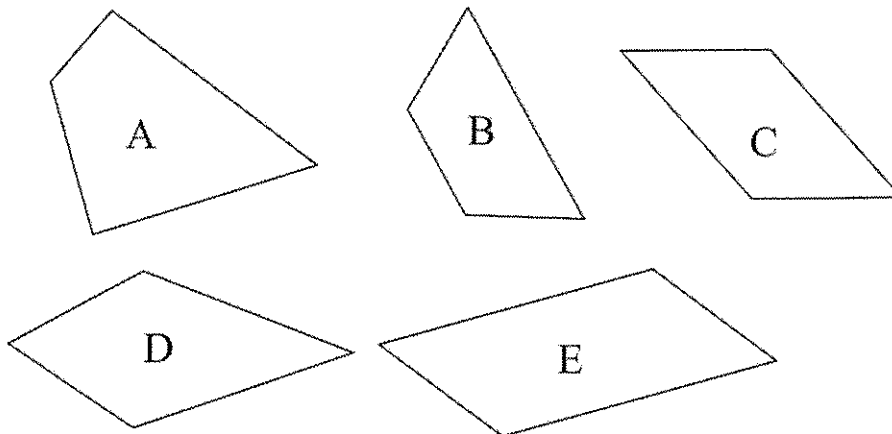
28. 小芬有三張聖誕卡及一個信封：



哪張聖誕卡可放進信封裏？

答案：聖誕卡 _____

29. 根據指示，寫出所有代表答案的英文字母。



列出所有平行四邊形：_____

請勿在此書寫。

請勿在此書寫。

30. 要量度 10 mL 的水，下列哪個容器最合適？



A.

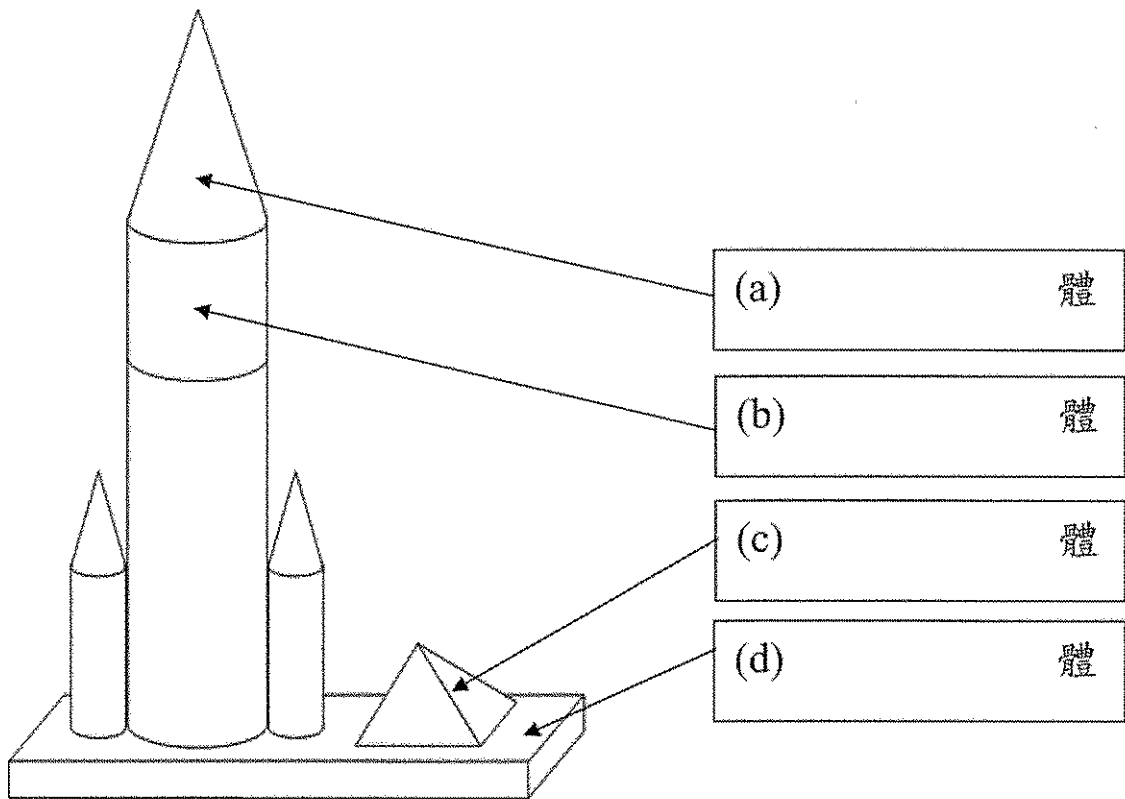
B.



C.

D.

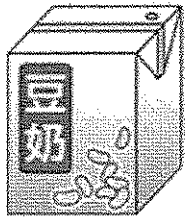
31. 下面的擺設是由立體圖形組成，在空格內寫上它們的名稱。



請勿在此書寫。

請勿在此書寫。

32. 根據指示，寫出所有代表答案的英文字母。



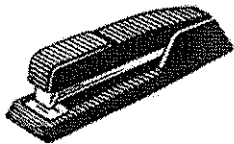
A



B




C




D



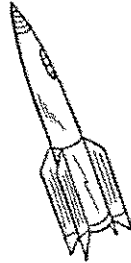
E



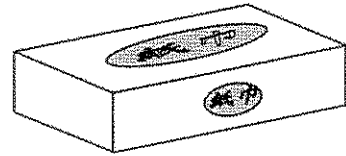
F



G



H



I

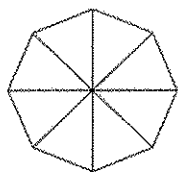
列出：

(a) 球體：_____

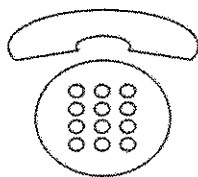
(b) 柱體：_____

(c) 錐體：_____

33. 根據指示，寫出所有代表答案的英文字母。



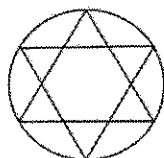
A



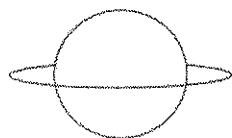
B



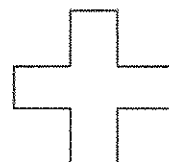
C



D



E



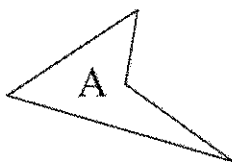
F

列出：

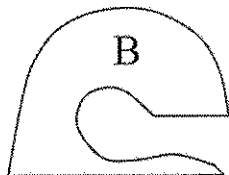
(a) 只用直線組成的圖： _____

(b) 用直線和曲線組成的圖： _____

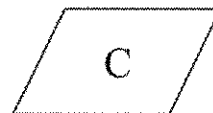
34. 根據指示，寫出所有代表答案的英文字母。



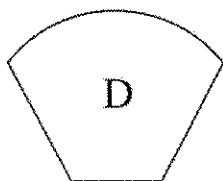
A



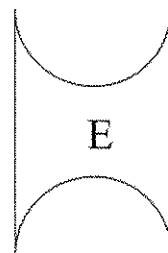
B



C



D



E

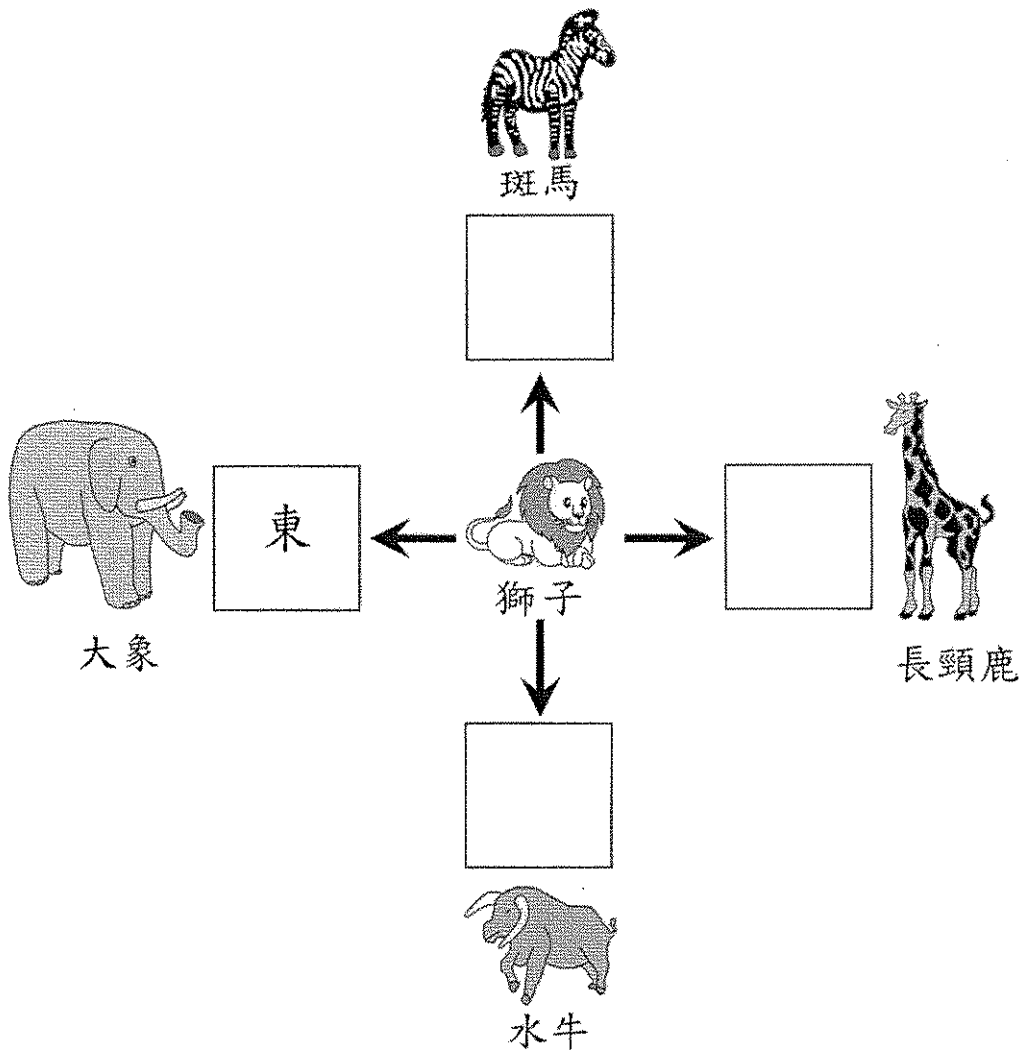
列出：

(a) 由曲線和平行線組成的圖： _____

(b) 四邊形： _____

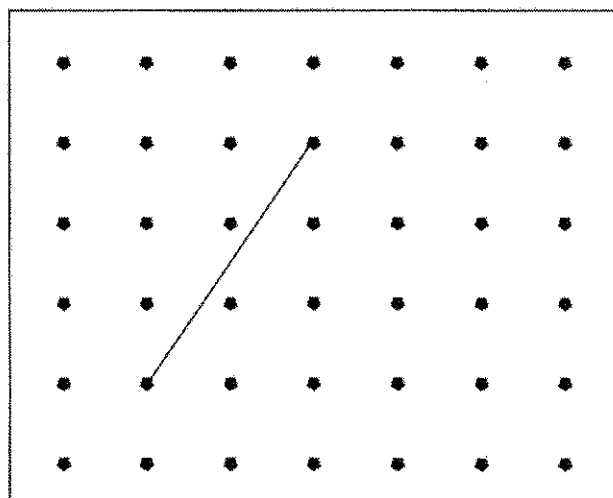
請勿在此書寫。

35. 大象在獅子的東方，在空格內填上其他的方向。



請勿在此書寫。


36. 淑怡用橡皮圈在釘板上圍了一個等腰三角形。下圖顯示其中一條邊，畫出這個等腰三角形其餘的邊。



37. 3B 班以一人一票替他們在學校開放日設計的攤位遊戲選一個名稱，結果如下：

攤位遊戲名稱

每個  代表 1 人



- (a) 選擇「你爭我奪」的人數是選擇「_____」的 3 倍。
- (b) 全班學生共有 34 人，沒有投票的有 _____ 人。
- (c) 根據以上的象形圖，3B 班學生*能 / 不能（*圈出答案）替攤位遊戲定出一個名稱，因為 _____。

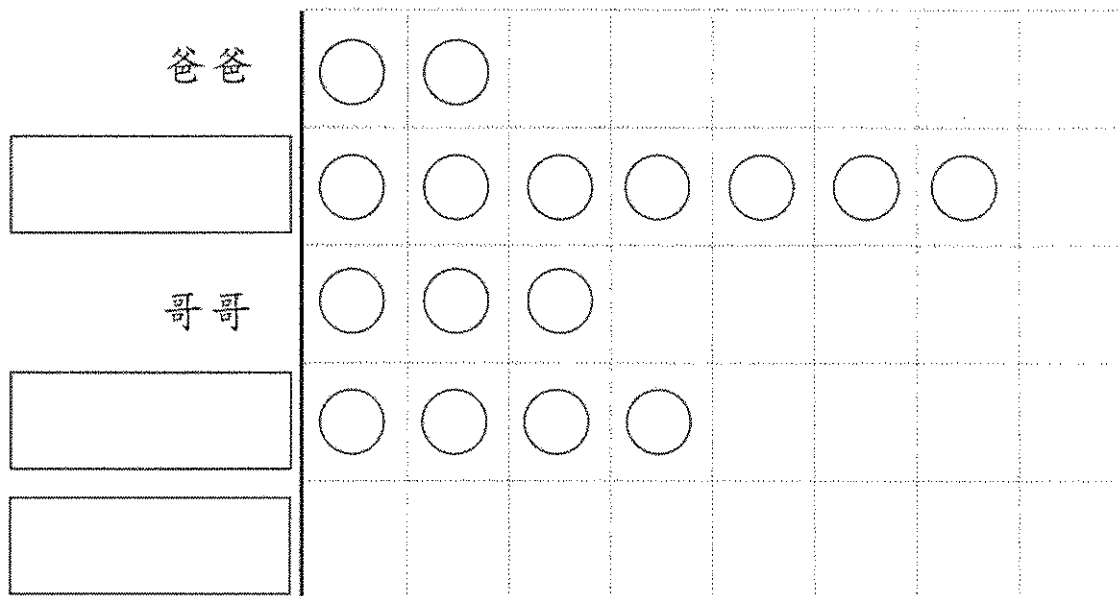
38. 玲玲統計了家中各人鞋子的數目，結果如下：

家庭成員	爸爸	媽媽	哥哥	玲玲	妹妹
鞋子數目(對)	3	7	4	6	3

根據統計結果，完成以下的象形圖。

玲玲家中各人鞋子的數目

每個 ○ 代表 1 對



— 全卷完 —

