




* 3 M C 3 *

3 M C 3



↑
請把電腦條碼貼在方格內

教育局
2009 年 全港性系統評估
小學三年級
數學

學生須知：

1. 在第 1、3、5、7 及 9 頁的適當位置貼上電腦條碼。
2. 全卷共有 38 題，全部題目均須作答。
3. 評估時限為 40 分鐘。
4. 答案必須書寫在答題簿中適當的位置內。
5. 不得在框線以外書寫任何文字、符號。
6. 不得使用計算機。
7. 算草應做在草稿紙上。
8. 在下面方格內填寫學校編號、班別及班號。

作答說明：

(a) 選擇題 - 選出正確的答案，並用 **HB** 鉛筆把該選項的圓圈塗黑和塗滿。如：

- A
- B
- C
- D

(b) 列式計算題 - 在方格內列寫橫式、答案、文字解說或題解，但毋須列寫算草。

(c) 其他類型題目 - 依題目的指示，在適當的位置作答。

學校編號

--	--	--

班別

3	
---	--

班號

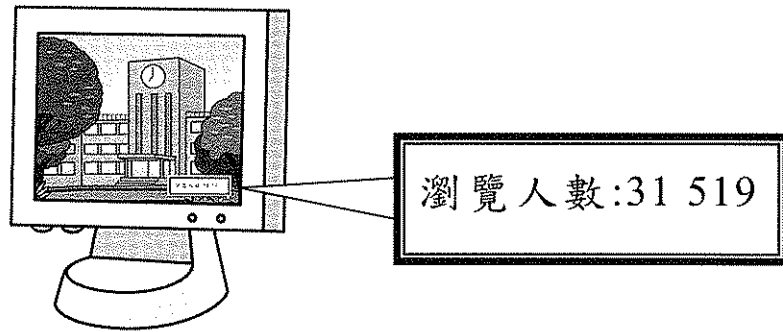
--	--

↑
此格只許填寫一個大楷英文字母

1. 在 28 106 這個數裏，「1」表示的數值是多少？

- A. 1000
- B. 100
- C. 10
- D. 1

2.




上圖顯示瀏覽學校網頁的人數，下列哪一個數最接近瀏覽人數？

- A. 31 419
- B. 31 510
- C. 31 300
- D. 31 500

3. $626 + 81 + 245 =$ _____

請把電腦條碼貼在方格內 →



請勿在此書寫。

4. $900 - (445 - 332) =$

A. 123

B. 233

C. 787

D. 797

5. $303 \times 3 = 3 \times \underline{\hspace{2cm}}$

6. $4 \times 7 \times 25 = \underline{\hspace{2cm}}$

7. $961 \div 4 = \underline{\hspace{2cm}}$


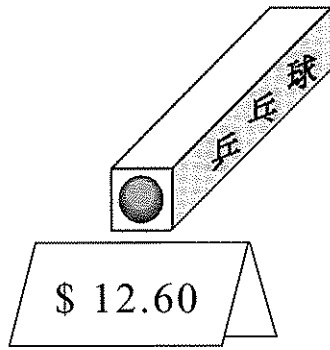
8. $6 \times 139 - 746 = \underline{\hspace{2cm}}$

9. $716 - (218 + 442) = \underline{\hspace{2cm}}$

請勿在此書寫。




10.



- (a) 3 塊乒乓球拍共值 _____ 元 _____ 角。
- (b) 一筒乒乓球共有 6 個，平均每個售
_____ 元 _____ 角。

11. 鄭老師買了玩具、文具和零食共 14 份禮物，獎勵成績優異的同學。




- (a) 零食佔全部禮物的 $\frac{2}{7}$ 。共有 _____ 份禮物是零食。
- (b) 文具佔全部禮物的 $\frac{1}{2}$ 。鄭老師準備把文具送給 9 位同學，每位同學一份。她還要多購買文具 _____ 份才足夠。

請勿在此書寫。

請勿在此書寫。

請把電腦條碼貼在方格內 →



12. 下列哪一項是正確的？

A. $\frac{3}{3} = 3$

B. $\frac{3}{3} = 1$

C. $\frac{1}{3} = 3$

D. $\frac{1}{3} = 1$

13. 把下列分數由大至小排列。

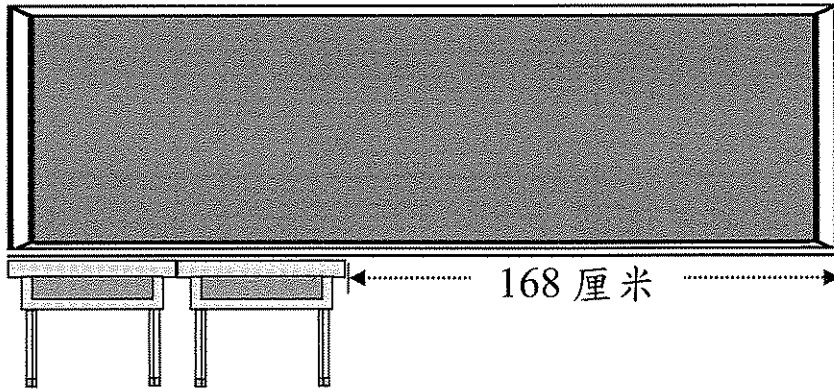
$$\frac{21}{22}, \frac{12}{22}, \frac{19}{22}$$

答案： , ,
(最大) (最小)

請勿在此書寫。

請勿在此書寫。

14.

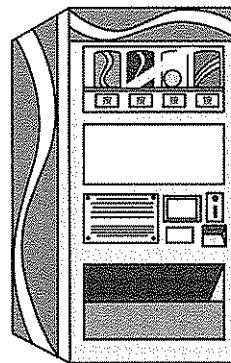


一張書桌長 56 厘米，黑板長多少？


- A. 56 厘米
- B. 112 厘米
- C. 224 厘米
- D. 280 厘米

15. 自動售賣機內有汽水 45 罐。現多放 5 打汽水。自動售賣機內共有汽水多少罐？

- A. 9 罐
- B. 50 罐
- C. 105 罐
- D. 225 罐



請把電腦條碼貼在方格內 →



16. 一部小童單車售 688 元，一盒積木比一部小童單車便宜 389 元。偉倫買一盒積木，付款 500 元，應找回多少？

答案：應找回 _____ 元。

17. 媽媽把 4 盒清雞湯倒進煲內。每盒清雞湯有 411 毫升。煲內共有清雞湯 _____ 毫升。

18. 籃球隊有 9 名新隊員要購買球衣。每人付 \$170.00，其餘由學校資助。學校共資助款項多少？
(列式計算)



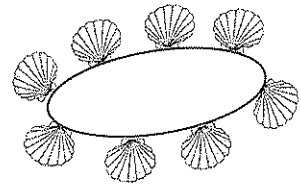
\$283.00

請勿在此書寫。

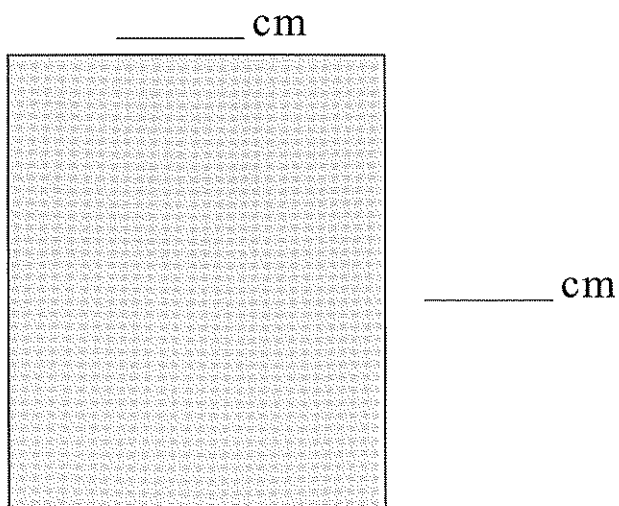
請勿在此書寫。

請勿在此書寫。

19. 學生在課後活動堂做貝殼手鐲。
每個手鐲要用貝殼 8 粒。現有貝殼
206 粒，最多可做貝殼手鐲多少個？
(列式計算)




20. 圖中長方形的闊度和長度是多少？



請勿在此書寫。

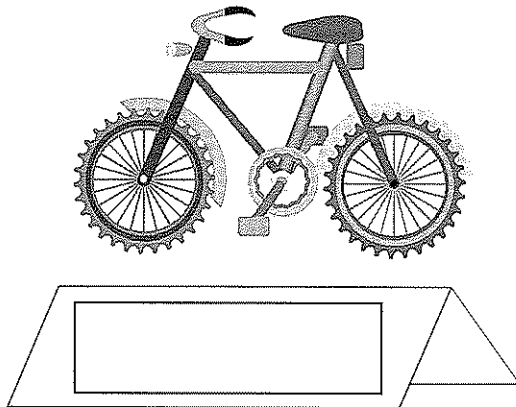
請把電腦條碼貼在方格內 →



21. 填上適當的長度單位：

- (a) 一張書桌約高 60 _____。
- (b) 香港與北京的距離大約是 2000 _____。
- (c) 畢架山的高度是 458 _____。
- (d) 一張八達通卡的闊度是 54 _____。


22. 一輛單車的售價是三百七十九元。
用阿拉伯數字在標價牌上寫上售價。




請勿在此書寫。

請勿在此書寫。


23. 填上各題的貨幣總值：



共 _____ 元 _____ 角



共 _____ 元 _____ 角



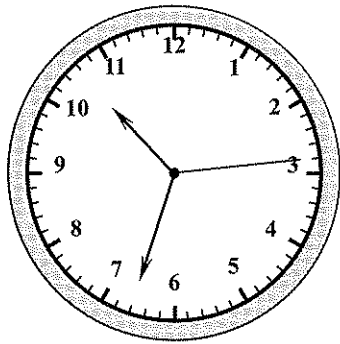
共 _____ 元 _____ 角

24. 使用以下九月的月曆回答下列問題。

九月						
星期日	星期一	星期二	星期三	星期四	星期五	星期六
		1	2	3	4	5
6	7	8	9	10	11	12
13	14	15	16	17	18	19
20	21	22	23	24	25	26
27	28	29	30			

- (a) 九月十日是敬師日，當天是星期 _____。
- (b) 田徑班由九月十一日開始，逢星期二及星期五上課，九月共有 _____ 天有田徑班。

25.



鐘面顯示的時間是 _____ : _____ : _____。


(時) (分) (秒)

請勿在此書寫。

請勿在此書寫。

26. 焗蛋糕需時 25 分鐘，

媽媽在



開始焗蛋糕。

蛋糕會在 _____ 時 _____ 分焗好。

27. 神州七號火箭在

9:10:05 PM

發射升空。在發射後 9 分鐘 43 秒，
載人飛船與火箭分離出來。

那時是下午 _____ 時 _____ 分
_____ 秒。



請勿在此書寫。


請勿在此書寫。

28. 填上適當的重量單位：

(a) 一張生日卡約重 20 _____。



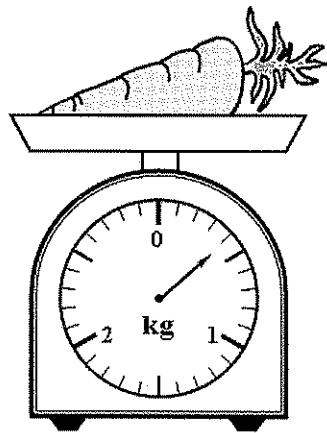
(b) 一個籃球約重 600 _____。



(c) 一隻燒豬約重 15 _____。




29.



紅蘿蔔的重量是 _____ (答案須寫上單位)。

30.

盛滿水的



可注滿



；

盛滿水的



可注滿




；

所以，盛滿水的



可注滿

_____ 個

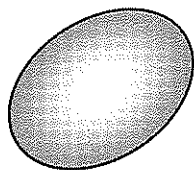


。

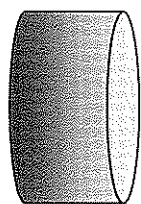
31. 偉德把 3A 班全班 30 人的數學書整齊地疊起來，會砌成哪種立體圖形？

- A. 角柱體
- B. 圓柱體
- C. 角錐體
- D. 球體


32. 根據指示，寫出所有代表答案的英文字母。



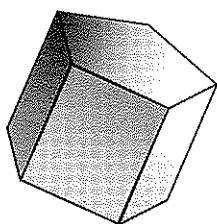
A



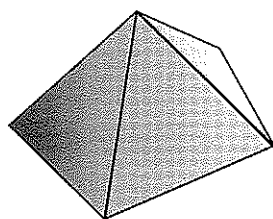
B



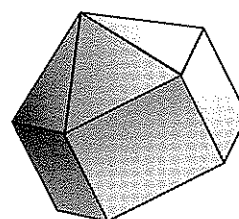
C




D



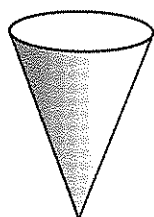
E



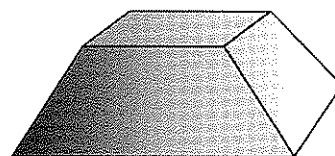
F



G



H



I

列出：

(a) 球體：_____

(b) 角柱體：_____

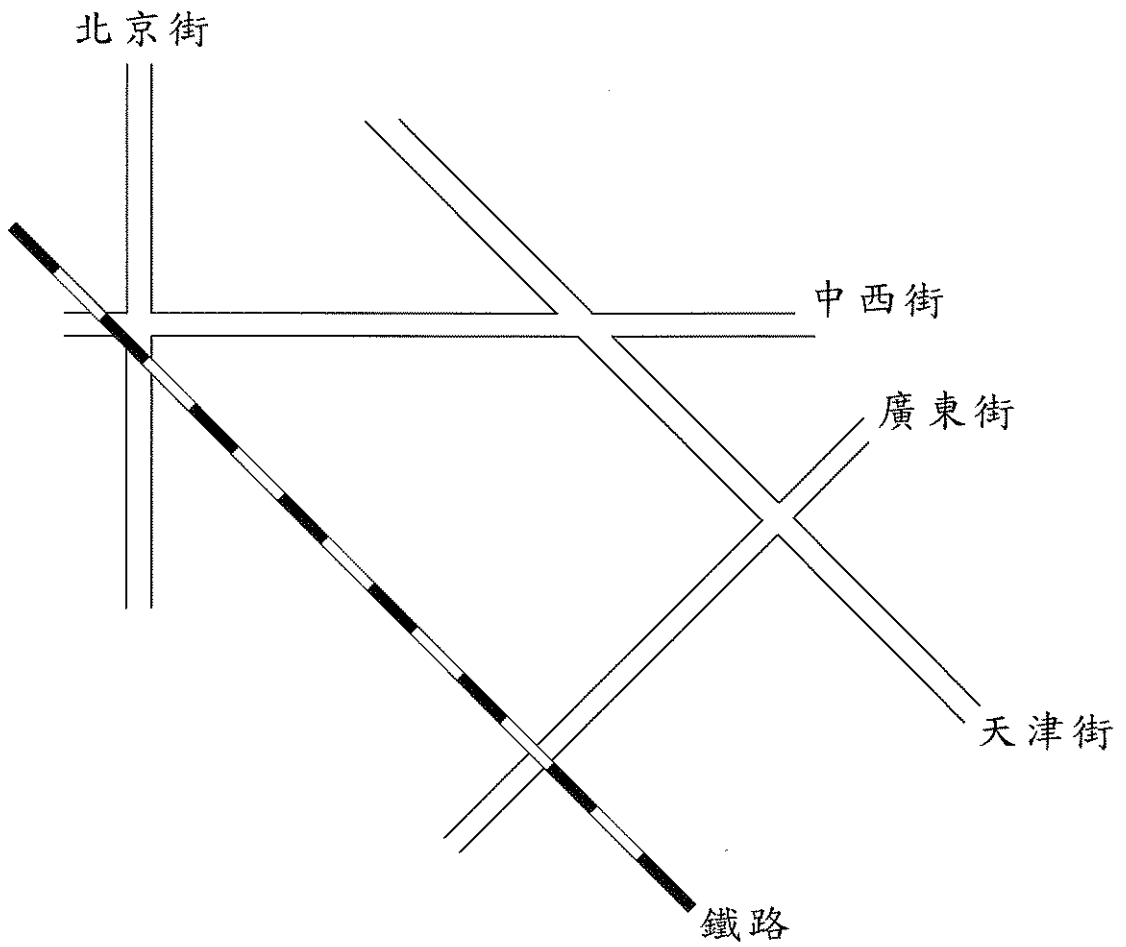
(c) 角錐體：_____

(d) 圓柱體：_____

請勿在此書寫。

請勿在此書寫。

33.



在以上的地圖中，

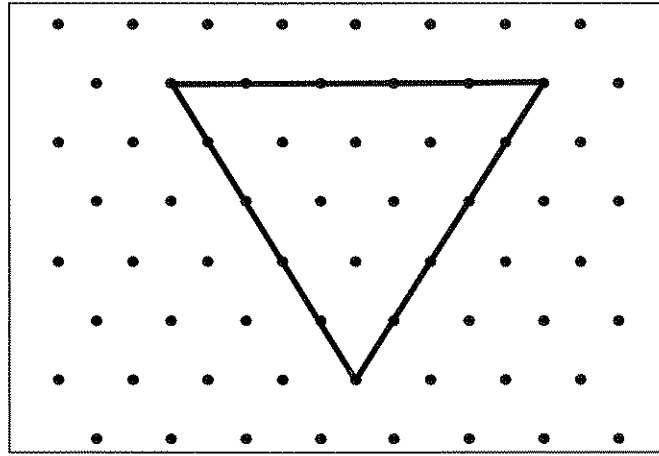
(a) 哪條街道與鐵路平行？

答案：_____ 街

(b) 哪條街道與鐵路垂直？

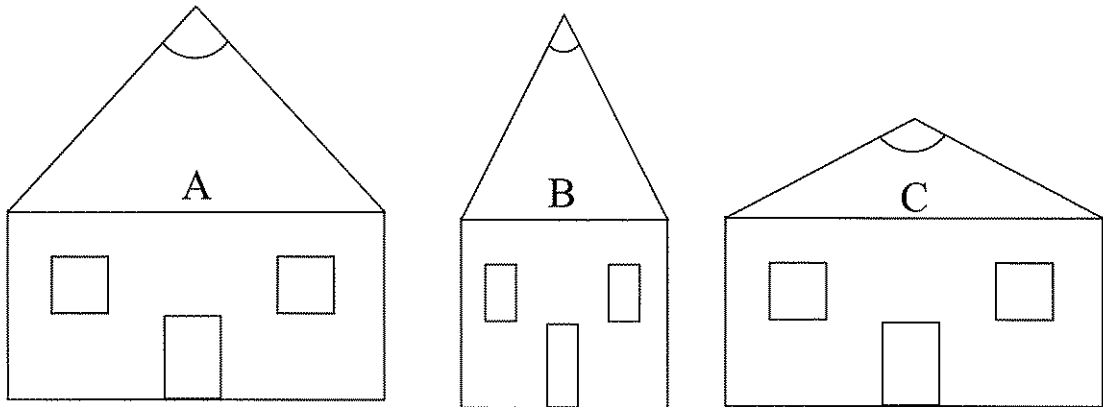
答案：_____ 街

34. 明明用橡皮圈在釘板上圍了一個三角形如下：



這個是 * 等邊 / 等腰 / 直角 三角形。（*圈出答案）

35. 寫出代表答案的英文字母。



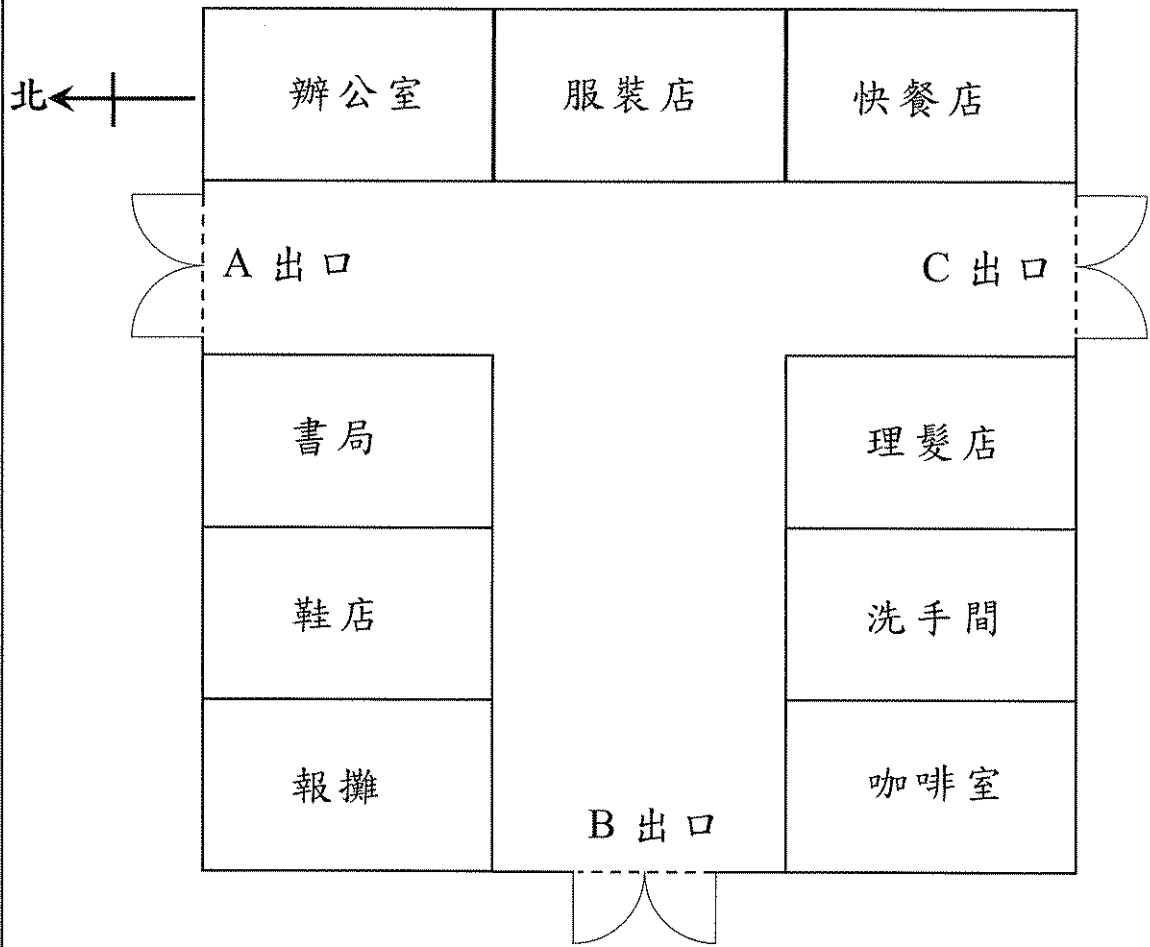
小屋 _____ 屋頂的角最大。

小屋 _____ 屋頂的角最小。

請勿在此書寫。

請勿在此書寫。

36. 下圖是某商場的指示圖。



- (a) 咖啡室在快餐店的 _____ 方。
- (b) 理髮店的 _____ 方有一間書局。
- (c) 馬先生要由 B 出口經商場往 C 出口，他應先向 _____ 方走，再向 _____ 方走便可到達。

請勿在此書寫。

請勿在此書寫。

37. 芷珊調查了 27 位同學的家庭成員人數，結果如下：

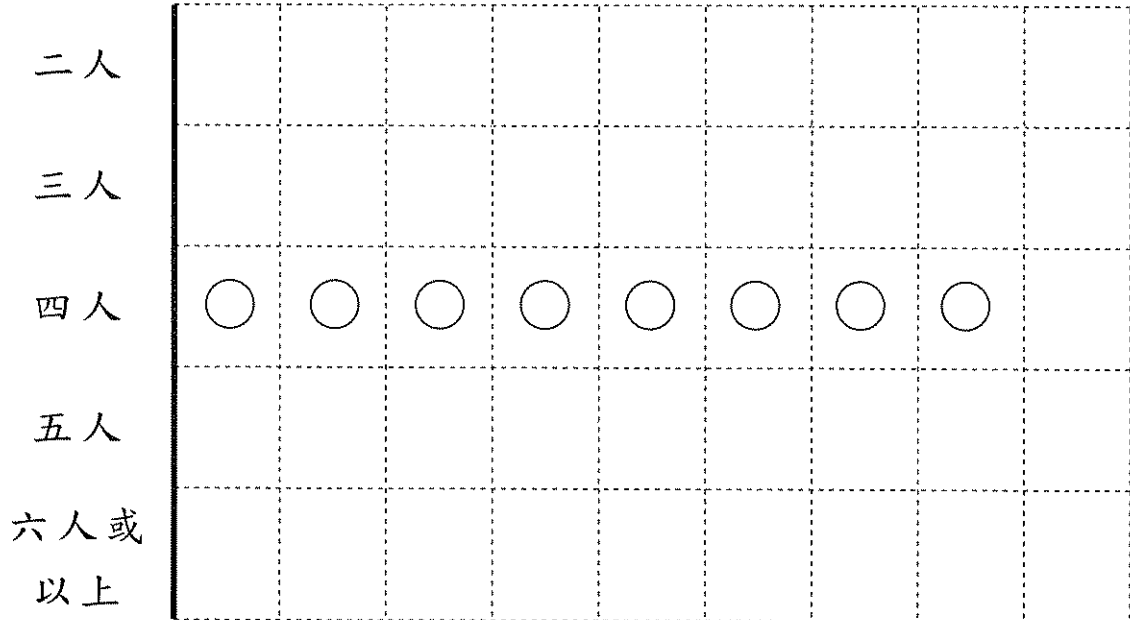
(a) 根據統計結果，完成下表。

家庭成員	二人	三人	四人	五人	六人或 以上
記錄					
家庭數目					

(b) 根據統計結果，完成以下的象形圖，並加上標題。

(標題)

每個 ○ 代表 1 個家庭




請勿在此書寫。

請勿在此書寫。

38. 偉明統計了同學在星期日喜愛的活動，結果如下：

同學在星期日的活動情況

每個 ☺ 代表 1 人



- (a) 偉明共訪問了 _____ 人。
- (b) 喜愛玩電子遊戲和看電影的共有 _____ 人，是喜愛逛街人數的 _____ 倍。
- (c) 偉明在星期日喜愛的活動是游泳，根據以上的象形圖，此活動歸類為 _____。

— 全卷完 —