



9	M	C	1	(A)
---	---	---	---	---	---	---



↑
請把電腦條碼貼在方格內

教育局
2013 年全港性系統評估
中學三年級
數學
答題簿

學生須知：

1. 在本頁的適當位置填寫學校編號、班別及班號。
2. 在第 1 頁及第 3 頁的適當位置貼上電腦條碼。
3. 評估時限為 65 分鐘。
4. 所有答案必須書寫在本答題簿中適當的位置內。
5. 不得在各頁邊界以外位置書寫任何文字、符號。
6. 除特別指明外，數值答案須用真確值，或準確至三位有效數字的近似值表示。
7. 可使用香港考試及評核局核准之計算機。
8. 算草應做在草稿紙上。

學校編號

--	--	--

班別

3	
---	--

班號

--	--

↑
此格只許填寫一個大楷英文字母

請勿在此書寫。

甲部：多項選擇題


多項選擇題 - 選出正確的答案，並用 **HB 鉛筆** 把該選項的圓圈塗黑和塗滿，
如：

A B C D

1. A B C D
2. A B C D
3. A B C D
4. A B C D
5. A B C D
6. A B C D
7. A B C D
8. A B C D
9. A B C D
10. A B C D

請勿在此書寫。

請把電腦條碼貼在方格內 →



請勿在此書寫。

11. A B C D
○ ○ ○ ○
12. A B C D
○ ○ ○ ○
13. A B C D
○ ○ ○ ○
14. A B C D
○ ○ ○ ○
15. A B C D
○ ○ ○ ○
16. A B C D
○ ○ ○ ○
17. A B C D
○ ○ ○ ○
18. A B C D
○ ○ ○ ○
19. A B C D
○ ○ ○ ○
20. A B C D
○ ○ ○ ○

請勿在此書寫。



乙部： 答案須寫在預留的位置內。 無須列出算式。

21. (i) _____ 點表示恆生指數上升 350 點。

(ii) _____ 點表示恆生指數下跌 300 點。

22. _____

23. 女生的數目與男生的數目的比 = _____ : _____

24. _____

25. 該多項式是 _____。

26. _____

27. _____

28. $x =$ _____

29. _____

30. _____

31. _____

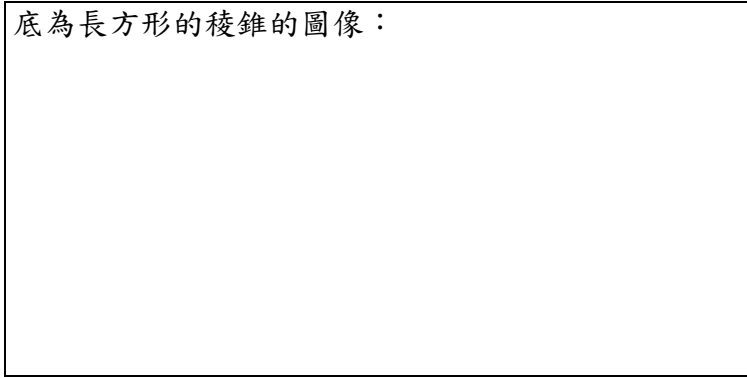
32. 圖形的面積是 _____ cm^2 。

33. _____

請勿在此書寫。

請勿在此書寫。

34. 底為長方形的稜錐的圖像：



35. (a) $x =$ _____

(b) $y =$ _____

36. 該反射對稱平面的名稱是 _____。

37. $AB =$ _____ cm

38. P 點的坐標是 (_____ , _____)。


39. $x =$ _____

40. () \rightarrow () \rightarrow () \rightarrow ()

41. 所求的經驗概率是 _____。


丙部： 在預留的空位內作答。 必須清楚列寫算式及題解。

42.




請勿在此書寫。

43.



44.



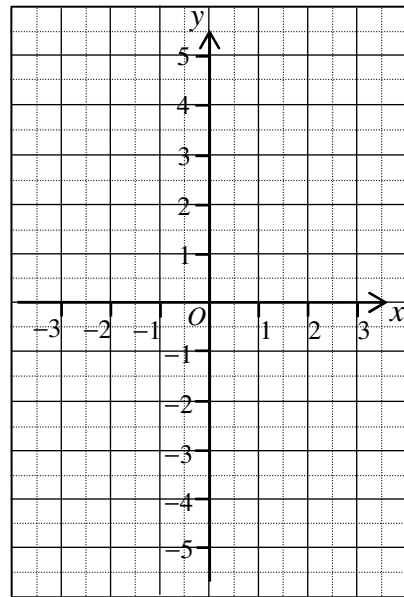
45.



請勿在此書寫。

46. $y = 2x - 1$

x	-2	0	2
y			3

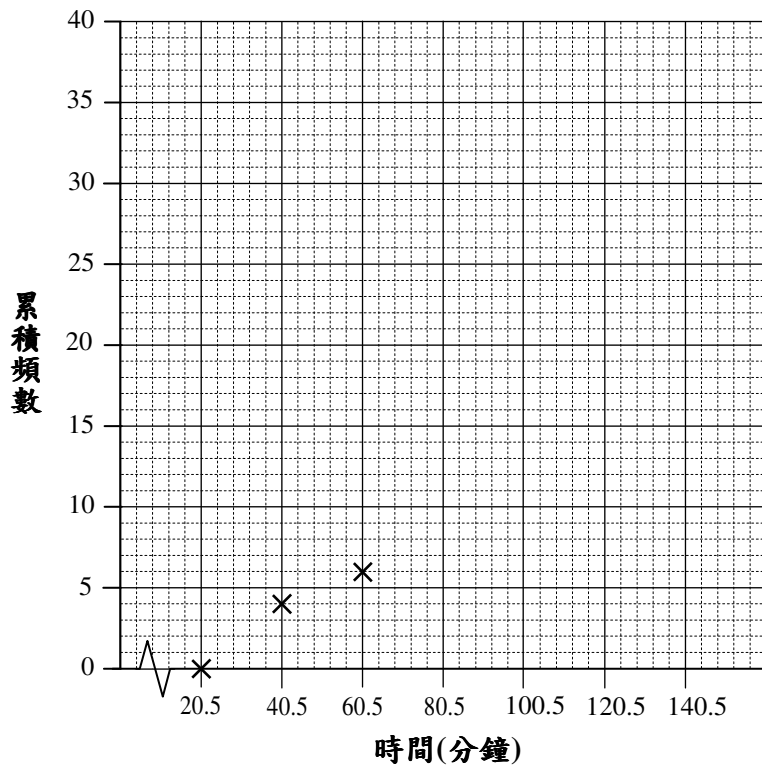


47. (a)

候診時間少於(分鐘)	20.5	40.5	60.5	80.5	100.5	120.5	140.5
累積頻數	0	4	6				

(b)

35 名病人候診的時間



請勿在此書寫。

48.

49.

50.

理由：

∴ 學明帶備的 \$100 是 * 足夠 / 不足夠 付款的。 (* 圈出正確答案)

請勿在此書寫。

全卷完