




9	M	C	2	(A)
---	---	---	---	---	---	---



↑
請把電腦條碼貼在方格內

教育局
2013 年全港性系統評估
中學三年級
數學
答題簿

學生須知：

1. 在本頁的適當位置填寫學校編號、班別及班號。
2. 在第 1 頁及第 3 頁的適當位置貼上電腦條碼。
3. 評估時限為 65 分鐘。
4. 所有答案必須書寫在本答題簿中適當的位置內。
5. 不得在各頁邊界以外位置書寫任何文字、符號。
6. 除特別指明外，數值答案須用真確值，或準確至三位有效數字的近似值表示。
7. 可使用香港考試及評核局核准之計算機。
8. 算草應做在草稿紙上。

學校編號

--	--	--

班別

3	
---	--

班號

--	--

↑
此格只許填寫一個大楷英文字母

請勿在此書寫。

甲部：多項選擇題


多項選擇題 - 選出正確的答案，並用 **HB 鉛筆** 把該選項的圓圈塗黑和塗滿，
如：

A B C D

1. A B C D
2. A B C D
3. A B C D
4. A B C D
5. A B C D
6. A B C D
7. A B C D
8. A B C D
9. A B C D
10. A B C D

請勿在此書寫。

請把電腦條碼貼在方格內 →



請勿在此書寫。

11. A B C D
○ ○ ○ ○
12. A B C D
○ ○ ○ ○
13. A B C D
○ ○ ○ ○
14. A B C D
○ ○ ○ ○
15. A B C D
○ ○ ○ ○
16. A B C D
○ ○ ○ ○
17. A B C D
○ ○ ○ ○
18. A B C D
○ ○ ○ ○
19. A B C D
○ ○ ○ ○
20. A B C D
○ ○ ○ ○

請勿在此書寫。



乙部： 答案須寫在預留的位置內。 無須列出算式。

21. (i) _____ 點表示恆生指數上升 350 點。

(ii) _____ 點表示恆生指數下跌 300 點。

22. _____

23. _____ m

24. 德國贏取獎牌的數目是 _____ 。

25. $x =$ _____

26. _____

27. _____

28. _____

29. $x =$ _____

30. _____

31. i. -99 -100

ii. $\frac{1}{99}$ $\frac{1}{100}$

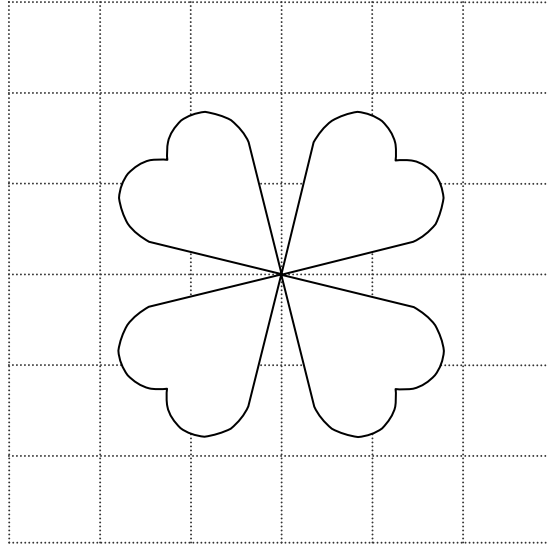
32. 圖形的面積是 _____ cm^2 。

33. 稜錐的體積是 _____ cm^3 。

請勿在此書寫。

34. _____

35.



36. $x =$ _____

37. _____

38. _____

39. M' 的坐標是 (_____ , _____)。

40. $x =$ _____

41. 雞蛋重量的中位數是 _____ g。

請勿在此書寫。

丙部：在預留的空位內作答。必須清楚列寫算式及題解。

42.

使用人數	頻數
1 - 20	
21 - 40	
41 - 60	8

使用人數	頻數
1 - 12	
13 - 24	
25 - 36	
37 - 48	6
49 - 60	

43.

44.

請勿在此書寫。

請勿在此書寫。

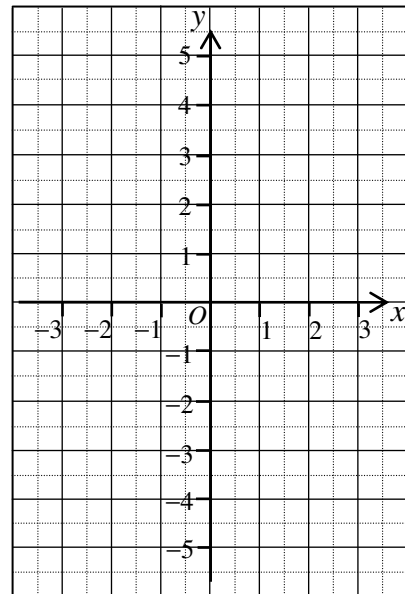
請勿在此書寫。

45.

46.

47. $2x - y - 1 = 0$

x	-2	0	2
y			3



請勿在此書寫。

請勿在此書寫。

48.

49.

50.

全卷完

請勿在此書寫。