



* 9 M C 3 *

9	M	C	3	(A)
---	---	---	---	---	---	---

↑
請把電腦條碼貼在方格內

教育局
2016 年全港性系統評估
中學三年級數學
答題簿

學生須知：

1. 在本頁的適當位置填寫學校編號、班別及班號。
2. 在第 1 頁及第 3 頁的適當位置貼上電腦條碼。
3. 評估時限為 65 分鐘。
4. 所有答案必須書寫在本答題簿中適當的位置內。
5. 不得在各頁邊界以外位置書寫任何文字、符號。
6. 除特別指明外，數值答案須用真確值，或準確至三位有效數字的近似值表示。
7. 可使用香港考試及評核局核准之計算機。
8. 算草應做在草稿紙上。

學校編號

--	--	--

班別

3	
---	--

班號

--	--

↑
此格只許填寫一個大楷英文字母

甲部：多項選擇題

多項選擇題 - 選出正確的答案，並用 **HB 鉛筆** 把該選項的圓圈塗黑和塗滿，如：

A	B	C	D
<input checked="" type="radio"/>	<input type="radio"/>	<input type="radio"/>	<input type="radio"/>

1. A B C D

2. A B C D

3. A B C D

4. A B C D

5. A B C D

6. A B C D

7. A B C D

8. A B C D


9. A B C D

10. A B C D

請勿在此書寫。

請勿在此書寫。

請把電腦條碼貼在方格內 →



請勿在此書寫。

11. A B C D

12. A B C D

13. A B C D

14. A B C D

15. A B C D

16. A B C D

17. A B C D

18. A B C D

19. A B C D

20. A B C D

請勿在此書寫。



乙部： 答案須寫在預留的位置內。 無須列出算式。

21. $A =$ _____

$B =$ _____

$C =$ _____

22. _____

23. 紅色波子數量：綠色波子數量 = _____ : _____

24. _____

25. _____

26. _____

27. _____

28. _____

29. _____

30. _____

31. 圖 A : _____

圖 B : _____

32. (a) $x =$ _____

(b) $y =$ _____

請勿在此書寫。

請勿在此書寫。

請勿在此書寫。

33. $x =$ _____

34. _____

35. A 點的坐標是 (_____ , _____)。

36. $x =$ _____


37. () \rightarrow () \rightarrow () \rightarrow ()

38. 中位數 = _____ $^{\circ}\text{C}$

39. 美華的加權平均分數是 _____ 。

丙部： 在預留的空位內作答。 必須清楚列寫算式及題解。

40.



請勿在此書寫。

請勿在此書寫。

41.

42.

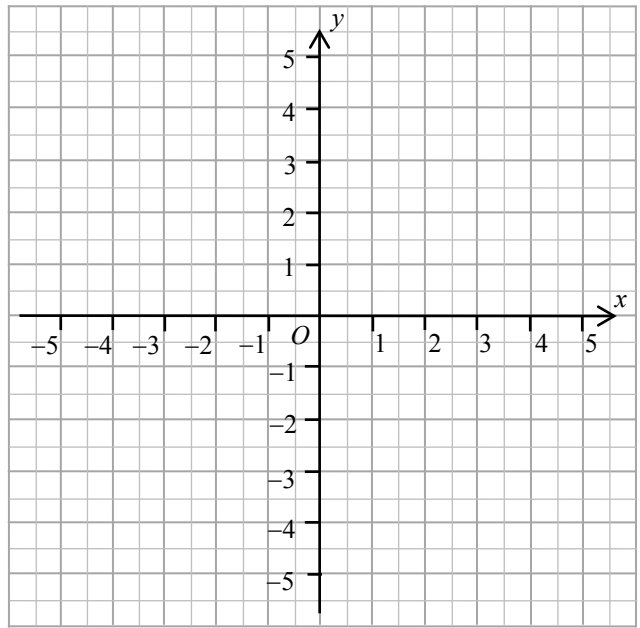
43.

請勿在此書寫。

請勿在此書寫。

44. $x + 3y - 3 = 0$

x	-3	0	3
y	2		



45. 理由：

.....

.....

.....

.....

.....

.....

.....

.....

.....

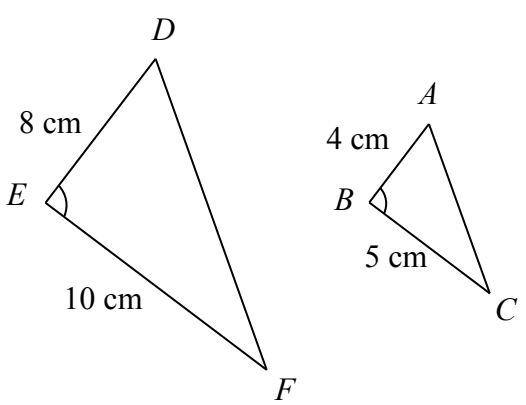
.....

∴我認為該教練的說法 * 有 / 沒有 誤導成份。 (*圈出正確答案)

請勿在此書寫。

請勿在此書寫。

46.



47.

請勿在此書寫。

全卷完