




9	M	C	1	(A)
---	---	---	---	---	---	---



↑
請把電腦條碼貼在方格內

教育局
2018 年全港性系統評估
中學三年級數學
答題簿

學生須知：

1. 在本頁的適當位置填寫學校編號、班別及班號。
2. 在第 1 頁及第 3 頁的適當位置貼上電腦條碼。
3. 評估時限為 65 分鐘。
4. 所有答案必須書寫在本答題簿中適當的位置內。
5. 不得在各頁邊界以外位置書寫任何文字、符號。
6. 除特別指明外，數值答案須用真確值，或準確至三位有效數字的近似值表示。
7. 可使用香港考試及評核局核准之計算機。
8. 算草應做在草稿紙上。

學校編號

S			
---	--	--	--

 班別

3	
---	--

 班號

--	--

↑
此格只許填寫一個大楷英文字母

甲部：多項選擇題

多項選擇題 - 選出正確的答案，並用 **HB 鉛筆** 把該選項的圓圈塗黑和塗滿，如：

A	B	C	D
●	○	○	○

1. A B C D

○ ○ ○ ○

2. A B C D

○ ○ ○ ○

3. A B C D

○ ○ ○ ○

4. A B C D

○ ○ ○ ○

5. A B C D

○ ○ ○ ○

6. A B C D

○ ○ ○ ○

7. A B C D

○ ○ ○ ○

8. A B C D

○ ○ ○ ○

9. A B C D

○ ○ ○ ○

10. A B C D

○ ○ ○ ○

請勿在此書寫。

請勿在此書寫。

請把電腦條碼貼在方格內 →



請勿在此書寫。

11. A B C D

12. A B C D

13. A B C D

14. A B C D

15. A B C D

16. A B C D

17. A B C D

18. A B C D

19. A B C D

20. A B C D

請勿在此書寫。



乙部： 答案須寫在預留的位置內。 無須列出算式。

21. $A =$ _____

$B =$ _____

$C =$ _____

22. 厚度 = _____ cm

23. 書桌的闊度是 _____ cm。

24. $s =$ _____

25. 該數列第 5 項的值是 _____。

26. _____

27. _____

28. $x =$ _____

29. *圈出正確答案

* 準確解 / 近似解

30. _____

31. 該圓形的半徑是 _____ cm。


請勿在此書寫。

請勿在此書寫。


32. 旋轉對稱折的數目為 _____ 。
33. (a) $x =$ _____
(b) $y =$ _____
34. $x =$ _____
35. _____
36. D' 點的坐標是 (_____ , _____) 。
37. *圈出正確答案 (i) * 離散數據 / 連續數據
(ii) * 離散數據 / 連續數據
38. (a) x 的值是 _____ 。
- (b) 該次生日聚會的總支出為 \$ _____ 。
- (c) 食物與飲品的支出相差 \$ _____ 。
39. 算術平均數 = _____
中位數 = _____

丙部： 在預留的空位內作答。 必須清楚列寫算式及題解。


40.



41.



42.

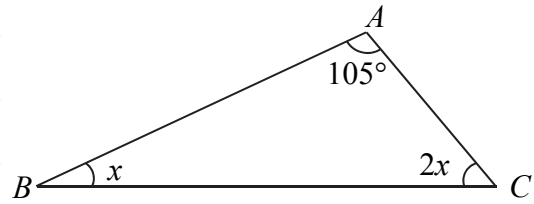


請勿在此書寫。

請勿在此書寫。

請勿在此書寫。

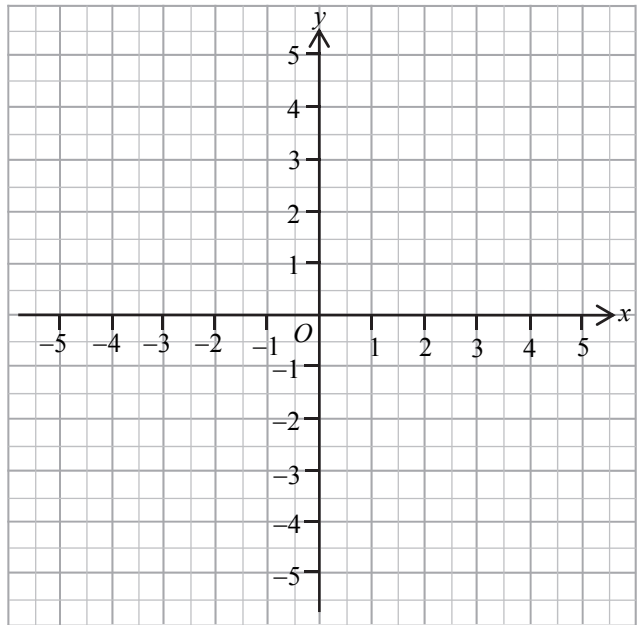
43.



44.

$$x - y = 0$$

x	-3	1	4
y		1	

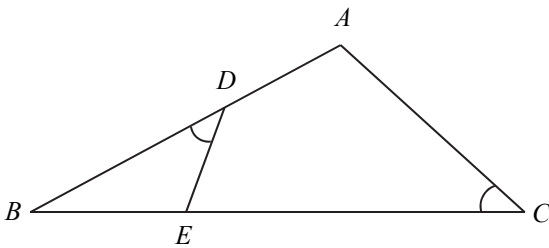


請勿在此書寫。

請勿在此書寫。

45.

46.



請勿在此書寫。

47.

理由：

∴我 * 同意 / 不同意 該隊長的宣稱。 (*圈出正確答案)

全卷完