




9	M	C	1	(A)
---	---	---	---	---	---	---



↑
請把電腦條碼貼在方格內

教育局
2019 年全港性系統評估
中學三年級數學
答題簿

學生須知：

1. 在本頁的適當位置填寫學校編號、班別及班號。
2. 在第 1 頁及第 3 頁的適當位置貼上電腦條碼。
3. 評估時限為 65 分鐘。
4. 所有答案必須書寫在本答題簿中適當的位置內。
5. 不得在各頁邊界以外位置書寫任何文字、符號。
6. 除特別指明外，數值答案須用真確值，或準確至三位有效數字的近似值表示。
7. 可使用香港考試及評核局核准之計算機。
8. 算草應做在草稿紙上。

學校編號

S			
---	--	--	--

班別

3	
---	--

班號

--	--

↑
此格只許填寫一個大楷英文字母

甲部：多項選擇題

多項選擇題 - 選出正確的答案，並用 **HB 鉛筆** 把該選項的圓圈塗黑和塗滿，如：

A	B	C	D
<input checked="" type="radio"/>	<input type="radio"/>	<input type="radio"/>	<input type="radio"/>

- A B C D
- A B C D
- A B C D
- A B C D
- A B C D
- A B C D
- A B C D
- A B C D
- A B C D
- A B C D

請勿在此書寫。

請勿在此書寫。

請把電腦條碼貼在方格內 →



請勿在此書寫。

11. A B C D

12. A B C D

13. A B C D

14. A B C D

15. A B C D

16. A B C D

17. A B C D

18. A B C D

19. A B C D

20. A B C D

請勿在此書寫。



乙部： 答案須寫在預留的位置內。 無須列出算式。

21. $A =$ _____

$B =$ _____

$C =$ _____

22. 直徑 = _____ m

23. 琪琪該月的膳食支出是 \$ _____ 。

24. $m =$ _____

25. 該數列第 4 項的值是 _____ 。

26. _____

27. _____

28. $x =$ _____

29. *圈出正確答案

* 準確解 / 近似解

30. _____

31. 該圓形的半徑是 _____ cm 。

請勿在此書寫。

請勿在此書寫。

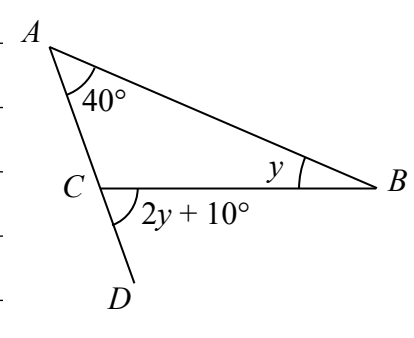
32. 旋轉對稱折的數目為 _____ 。
33. (a) $x =$ _____
(b) $y =$ _____
34. $m =$ _____
35. _____
36. C' 點的坐標是 (_____ , _____) 。
37. *圈出正確答案 (i) * 離散數據 / 連續數據
(ii) * 離散數據 / 連續數據
38. (a) 在 _____ 錄得的上載速度是 5.2 Mbps 。
- (b) 在 _____ 錄得的上載速度比一小時前的上載速度下降最多 。
- (c) 在 12:00 和 13:00 錄得的上載速度相差 _____ Mbps 。
39. 算術平均數 = _____
中位數 = _____

丙部：在預留的空位內作答。必須清楚列寫算式及題解。

40.

41.

42.



The diagram shows a triangle with vertices A, B, and C. The interior angle at vertex A is labeled 40° . The interior angle at vertex B is labeled y . The side AC is extended to a point D, forming an exterior angle BCD. This exterior angle is labeled $2y + 10^\circ$.

請勿在此書寫。

請勿在此書寫。

請勿在此書寫。

43.

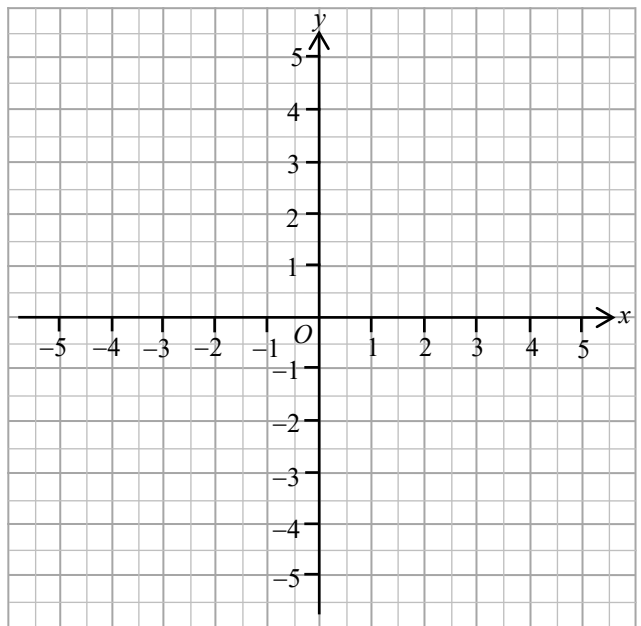
Blank writing area with horizontal dashed lines.

請勿在此書寫。

44.

$$y = \frac{x-1}{2}$$

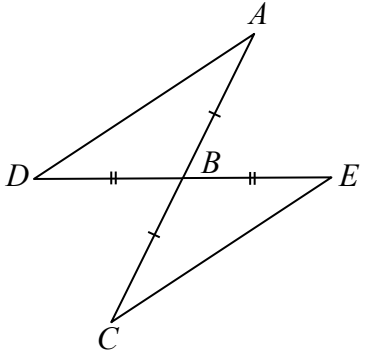
x	-3	1	3
y	-2		



請勿在此書寫。

45.

46.



47.

∴我 * 同意 / 不同意 該補習社的宣稱。 (*圈出正確答案)

全卷完

請勿在此書寫。