




* 9 M C 3 *

9	M	C	3	(A)
---	---	---	---	---	---	---



↑
請把電腦條碼貼在方格內

教育局
2019 年全港性系統評估
中學三年級數學
答題簿

學生須知：

1. 在本頁的適當位置填寫學校編號、班別及班號。
2. 在第 1 頁及第 3 頁的適當位置貼上電腦條碼。
3. 評估時限為 65 分鐘。
4. 所有答案必須書寫在本答題簿中適當的位置內。
5. 不得在各頁邊界以外位置書寫任何文字、符號。
6. 除特別指明外，數值答案須用真確值，或準確至三位有效數字的近似值表示。
7. 可使用香港考試及評核局核准之計算機。
8. 算草應做在草稿紙上。

學校編號

S			
---	--	--	--

班別

3	
---	--

班號

--	--

↑
此格只許填寫一個大楷英文字母

甲部：多項選擇題

多項選擇題 - 選出正確的答案，並用 **HB 鉛筆** 把該選項的圓圈塗黑和塗滿，如：


A	B	C	D
●	○	○	○

1. A B C D
○ ○ ○ ○
2. A B C D
○ ○ ○ ○
3. A B C D
○ ○ ○ ○
4. A B C D
○ ○ ○ ○
5. A B C D
○ ○ ○ ○
6. A B C D
○ ○ ○ ○
7. A B C D
○ ○ ○ ○
8. A B C D
○ ○ ○ ○
9. A B C D
○ ○ ○ ○
10. A B C D
○ ○ ○ ○

請勿在此書寫。

請勿在此書寫。

請把電腦條碼貼在方格內 →



請勿在此書寫。

11. A B C D

12. A B C D

13. A B C D

14. A B C D

15. A B C D

16. A B C D

17. A B C D

18. A B C D

19. A B C D

20. A B C D

請勿在此書寫。



乙部： 答案須寫在預留的位置內。 無須列出算式。

21. (i) _____元表示琪琪的八達通卡內餘額為 70 元。

(ii) _____元表示家傑的八達通卡內透支額為 3 元。

22. _____

23. 有 _____ 個正整數小於 $\sqrt{142}$ 。

24. $x =$ _____

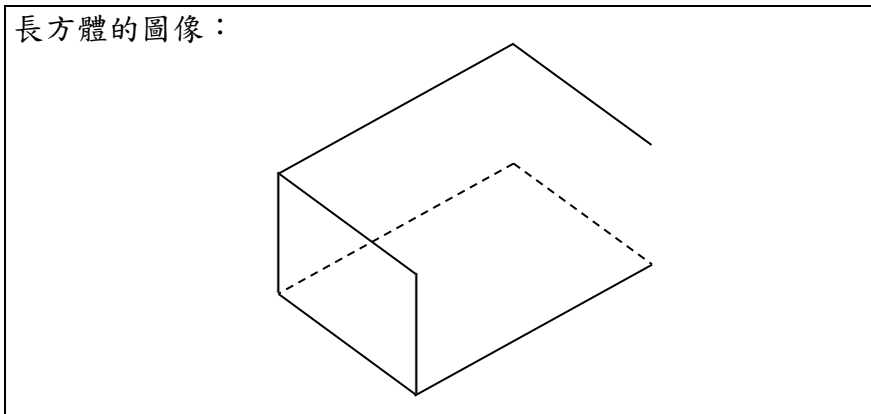
$y =$ _____

25. _____

26. _____

27. _____

28. 長方體的圖像：



29. $s =$ _____

請勿在此書寫。

請勿在此書寫。

30. $\frac{4}{21}$ $\frac{5}{19}$

31. $x =$ _____

32. _____

33. $x =$ _____

34. Q 點的坐標是 (_____ , _____)。

35. $ST =$ _____ 單位

36. () \rightarrow () \rightarrow () \rightarrow ()

37. 巧瑩的加權平均分數是 _____。

38. (a) 3A 班學生有 _____ 人。


(b) 該次測驗中得分最高的學生每星期平均玩遊戲機 _____ 小時。

(c) 每星期平均花多於 10 小時玩遊戲機的學生有 _____ 人。


39. 所求的經驗概率 = _____

丙部：在預留的空位內作答。必須清楚列寫算式及題解。


40.



41.



42.



請勿在此書寫。

請勿在此書寫。

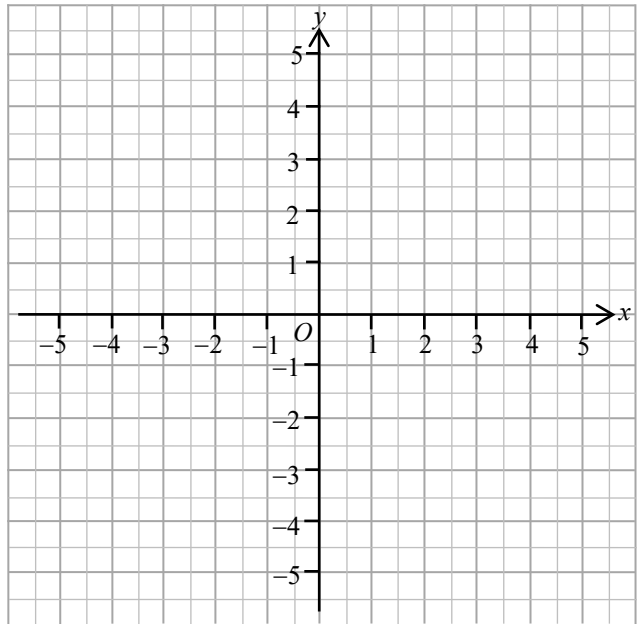
請勿在此書寫。

43.

44.

$$x - 2y - 1 = 0$$

x	-3	1	3
y	-2		



請勿在此書寫。

請勿在此書寫。

45.

46.

A — B — C
 110°
 D — E — F
 G
 70°

請勿在此書寫。

47.

(a)

體重(kg)	46 – 50	51 – 55	56 – 60	61 – 65
組中點(kg)		53		63
頻數	5	13	10	2

(b)

全卷完