



* 3 C A V 2 *

3	C	A	V	2
---	---	---	---	---



↑
請把電腦條碼貼在方格內

教育局
2023 年 全港性系統評估
小學三年級
中國語文
閱讀及聆聽——視聽資訊評估

學生須知：

1. 在第 1 及第 3 頁的適當位置貼上電腦條碼。
2. 本卷共有 12 題，全部題目均須作答，評估時限約 15 分鐘。
3. 必須在答題簿內的適當位置作答。
4. 不得在框線以外書寫任何文字、符號。
5. 在下面方格內填寫學校編號、班別及班號。

作答說明：

選擇題 - 選出正確的答案，並用 **HB 鉛筆** 把選項的圓圈塗黑和塗滿。如：

例子：

<input checked="" type="radio"/>	A
<input type="radio"/>	B
<input type="radio"/>	C
<input type="radio"/>	D

(四選一)


學校編號	<table border="1"><tr><td>P</td><td></td><td></td><td></td></tr></table>	P				班別	<table border="1"><tr><td>3</td><td></td></tr></table>	3		班號	<table border="1"><tr><td></td><td></td></tr></table>		
P													
3													

↑
此格只許填寫一個大楷英文字母


第一部分

請細心觀看短片（一），然後回答第 1—6 題。


1. 下列哪一幅圖是紅鸚？




A



B



C



D

2. 長大後的紅鸚跟幼年時有什麼不同？


長大後的紅鸚

- A. 喜歡單獨生活。
- B. 尾巴又長又彎。
- C. 羽毛顏色會改變。
- D. 拍動翅膀捕捉食物。

請勿在此書寫。

請勿在此書寫。

請把電腦條碼貼在方格內 →



3. 紅鸚腳趾之間有一層皮膚，對紅鸚有什麼幫助？

- A. 不易沉入泥中。
- B. 避免腳趾受傷。
- C. 把食物抓得更緊。
- D. 在水中游得更快。

4. 黑臉琵鷺的嘴巴有什麼作用？

- A. 啄開貝殼進食。
- B. 尋找水中的食物。
- C. 危險時保護自己。
- D. 發出聲音呼叫同類。

請勿在此書寫。

請勿在此書寫。



5. 下列哪一項符合對黑臉琵鷺的描述？

黑臉琵鷺

- A. 嘴巴像笛子。
- B. 有白色的羽毛。
- C. 全年在香港生活。
- D. 沒有絕種的危機。

6. 這短片主要的信息是什麼？

介紹紅鸚和黑臉琵鷺的

- A. 飼養方法。
- B. 過冬地點。
- C. 全球總數量。
- D. 外貌和特點。

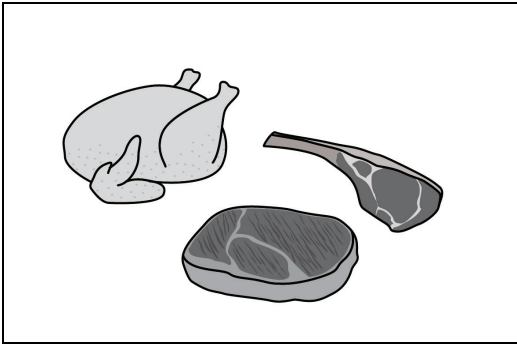
第二部分

請細心觀看短片（二），然後回答第 7—12 題。


7. 豹紋龜的頸部沒有被外殼蓋住，讓牠們

- A. 可以抬起頭。
- B. 更容易爬行。
- C. 方便吃東西。
- D. 感到涼快些。


8. 根據短片內容，豹紋龜喜歡吃什麼？



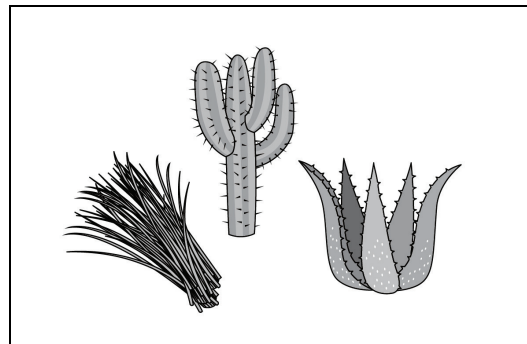
A



B



C



D

請勿在此書寫。

請勿在此書寫。

9. 豹紋龜的龜殼上，有圍繞花紋的圓圈，讓人們知道牠的

- A. 體形。
- B. 年齡。
- C. 重量。
- D. 長度。

10. 陸龜圓柱形的腳和短小的腳趾，有什麼作用？

- A. 擊退敵人。
- B. 抓住食物。
- C. 在地上行走。
- D. 容易縮進龜殼。

11. 下列哪一項符合對海龜的描述？

- A. 有船槳形狀的腳。
- B. 可以把頭縮入龜殼。
- C. 外殼像菠蘿包又圓又高。
- D. 腳上有很多大塊的鱗片。

12. 這短片主要的信息是什麼？

指出豹紋龜和海龜

- A. 十分長壽。
- B. 名字的由來。
- C. 外形及生活習性。
- D. 喜歡涼快的環境。

— 全卷完 —

請勿在此書寫。

請勿在此書寫。

