




6	C	A	V	2
---	---	---	---	---



↑
請把電腦條碼貼在方格內

教育局
2023 年 全港性系統評估
小學六年級
中國語文
閱讀及聆聽——視聽資訊評估

學生須知：

1. 在第 1 及 3 頁的適當位置貼上電腦條碼。
2. 本卷共有 13 題，全部題目均須作答，評估時限約 15 分鐘。
3. 必須在答題簿內的適當位置作答。
4. 不得在框線以外書寫任何文字、符號。
5. 在下面方格內填寫學校編號、班別及班號。

作答說明：

選擇題 – 選出正確的答案，並用 **HB 鉛筆** 把該選項的圓圈塗黑和塗滿。如：

例子(一)

- A
 B
 C
 D
- (四選一)

學校編號

P			
----------	--	--	--

班別

6	
----------	--

班號

--	--

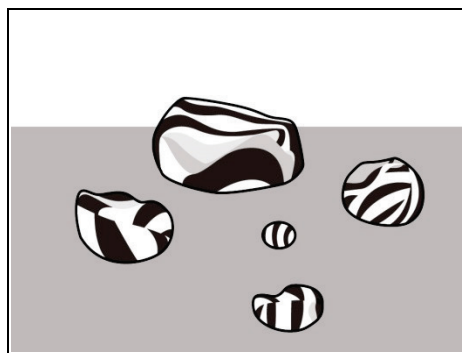
↑
此格只許填寫一個大楷英文字母

第一部分

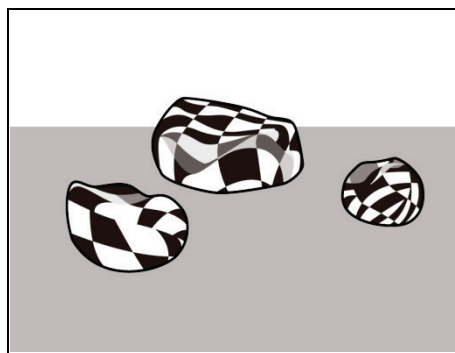
可在此欄摘記要點

請細心觀看短片(一)，然後回答第 1—7 題。

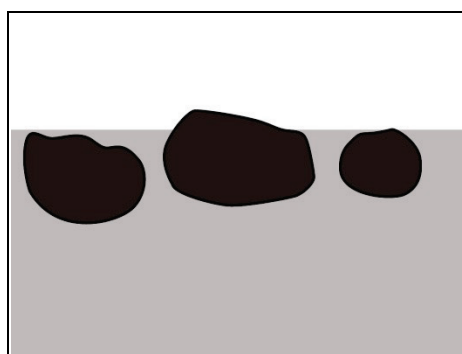
1. 根據短片內容，下列哪一幅圖符合藝術品《沉球》的擺放方式？




A.



B.



C.



D.


2. 羅發禮先生創作《大鐵人》，是希望市民

- A. 收藏鐵皮玩具。
- B. 相約舊朋友到公園玩。
- C. 感受舊玩具帶來的喜悅。
- D. 認識香港舊玩具的種類。

請勿在此書寫。

請勿在此書寫。

請把電腦條碼貼在方格內 →



可在此欄摘記要點

3. 根據劉鳳霞女士的說話，公園擺放七件不同的藝術品，是希望市民知道

- A. 公園是新改建的。
- B. 觀塘仍是工業區。
- C. 工業區轉型的原因。
- D. 觀塘傳統工業的歷史。

4. 下列哪一項是駿業街遊樂場改建的主要原因？

- A. 認識本地藝術家。
- B. 減少硬地球場數目。
- C. 配合工業區的需要。
- D. 增加社區的綠化空間。

5. 劉美寶女士希望在社區擺放藝術品的目的是

- A. 鼓勵市民創作藝術。
- B. 藉藝術品感動市民。
- C. 得到更多資源進行創作。
- D. 藉藝術品維繫人與人的關係。

請勿在此書寫。

請勿在此書寫。

6. 下列哪一項不是公園改建後的用途？

- A. 供藝術家表演。
- B. 展出歷史文物。
- C. 供市民做運動。
- D. 提供休憩場地。

7. 這段短片的主要內容是什麼？

- A. 介紹本地藝術家的作品。
- B. 記述更換公園設施的過程。
- C. 描述公園改建的由來和特色。
- D. 指出藝術品與生活息息相關。

請勿在此書寫。

請勿在此書寫。

第二部分

可在此欄摘記要點

請細心觀看短片(二)，然後回答第 8—13 題。

8. 陳采然女士認為「流動地圖應用程式」可信性比較高的原因是

- A. 下載次數多。
- B. 每周更新內容。
- C. 資訊由官方提供。
- D. 這是最新研發的程式。

9. 下列哪一項設施不能在「流動地圖應用程式」中搜索出來？

- A. 銀行。
- B. 運動場。
- C. 郵政局。
- D. 政府合署。

請勿在此書寫。

請勿在此書寫。


10. 根據短片內容，下列哪一項是地政總署職員使用的地貌測量工具？




A.



B.



C.



D.

11. 下列哪一項是「流動地圖應用程式」為遠足人士而設的功能？

- A. 迷路時報警。
- B. 展示遠足路徑。
- C. 提供交通指引。
- D. 即時與其他遠足人士交流。

請勿在此書寫。

請勿在此書寫。

12. 「流動地圖應用程式」中的「昔日香港」展示了哪個地區的地標建築轉變？

- A. 九龍。
- B. 新界。
- C. 離島。
- D. 香港島。

13. 這段短片的主要內容是什麼？

- A. 肯定「流動地圖應用程式」可信性高。
- B. 介紹「流動地圖應用程式」的特色和功能。
- C. 讚揚「流動地圖應用程式」對遠足人士的貢獻。
- D. 說明「流動地圖應用程式」與香港歷史的關係。

— 全卷完 —

