



\* 3 C A V 1 \*

3 C A V 1



請把電腦條碼貼在方格內

教育局  
 2026 年 全港性系統評估  
 小學三年級  
 中國語文  
 閱讀及聆聽——視聽資訊評估

學生須知：

1. 在第 1 及第 3 頁的適當位置貼上電腦條碼。
2. 本卷共有 12 題，全部題目均須作答，評估時限約 15 分鐘。
3. 必須在答題簿內的適當位置作答。
4. 不得在框線以外書寫任何文字、符號。
5. 在下面方格內填寫學校編號、班別及班號。

作答說明：

選擇題 - 選出正確的答案，並用 **HB** 鉛筆把選項的圓圈塗黑和塗滿。如：

例子：

A

B (四選一)

C

D

學校編號 

<b>P</b>			
----------	--	--	--

 班別 

<b>3</b>	
----------	--

 班號 

--	--



此格只許填寫一個  
大楷英文字母


## 第一部分

請細心觀看短片（一），然後回答第 1—6 題。

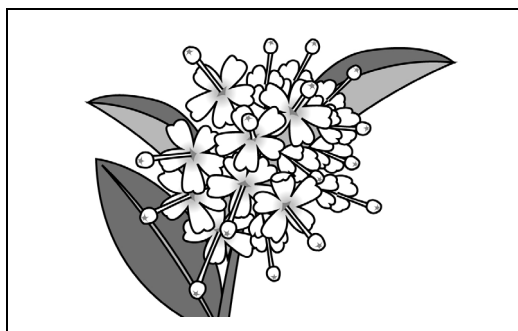
1. 渠務署植物苗圃有什麼主要用途？

- A. 種植外國生長的花朵。
- B. 展覽不同品種的植物。
- C. 培養香港的原生植物。
- D. 讓市民嘗試栽種植物。

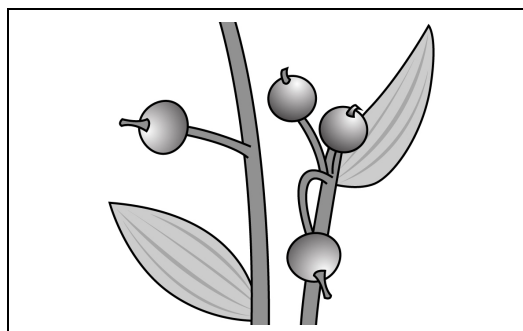
2. 下列哪一種是青葙的花朵？




A



B



C




D

請勿在此書寫。

請勿在此書寫。

請把電腦條碼貼在方格內 →



3. 根據短片內容，為什麼渠務署園境師在河流旁邊種植蕙苡？

因為蕙苡

- A. 生命力很頑強。
- B. 可以潔淨污水。
- C. 是猴子的主要食物。
- D. 能夠發出獨特香味。

4. 以下哪一項是渠務署園境師的工作？

- A. 定期護理植物。
- B. 清潔渠務設施。
- C. 教導市民耕種方法。
- D. 介紹種植物的好處。

5. 渠務署園境師怎樣美化沙田污水處理廠的環境？

- A. 綠化天台。
- B. 繪畫外牆。
- C. 放置裝飾品。
- D. 興建蝴蝶園。

請勿在此書寫。

請勿在此書寫。



6. 這短片主要的信息是什麼？

介紹渠務署

- A. 研究植物的人員。
- B. 清潔污水的方法。
- C. 美化設施的工作。
- D. 培養幼苗的地方。

## 第二部分

請細心觀看短片（二），然後回答第 7—12 題。

7. 為什麼「雞蛋花」有這個有趣的名字？

因為「雞蛋花」的

- A. 果實形狀像雞蛋。
- B. 果實像雞蛋般滑。
- C. 花瓣有雞蛋氣味。
- D. 花瓣顏色像雞蛋。

8. 雞蛋花是哪一種飲品的材料？

- A. 桂花茶。
- B. 杏仁茶。
- C. 五花茶。
- D. 烏龍茶。

9. 為什麼雞蛋花樹又稱為「鹿角樹」？

因為它的樹枝

- A. 能保護小鹿。
- B. 形狀像鹿角。
- C. 是小鹿的食物。
- D. 像鹿角般堅硬。

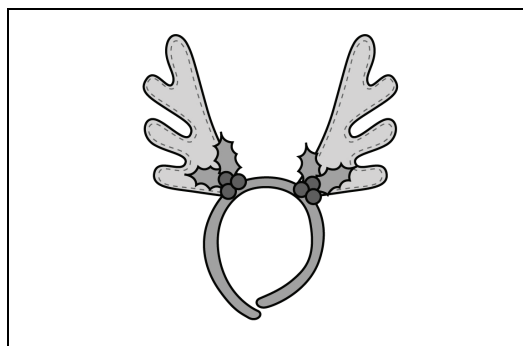
請勿在此書寫。

請勿在此書寫。

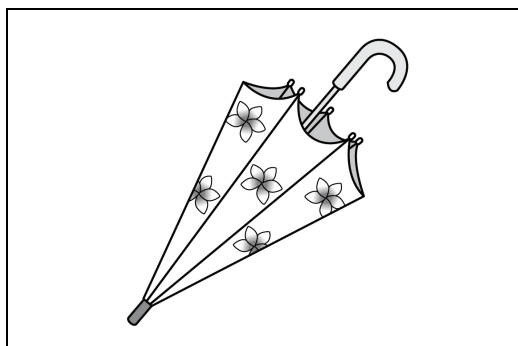
10. 雞蛋花在什麼季節盛開？

- A. 春季。
- B. 夏季。
- C. 秋季。
- D. 冬季。

11. 居住在夏威夷的人會送什麼給客人？



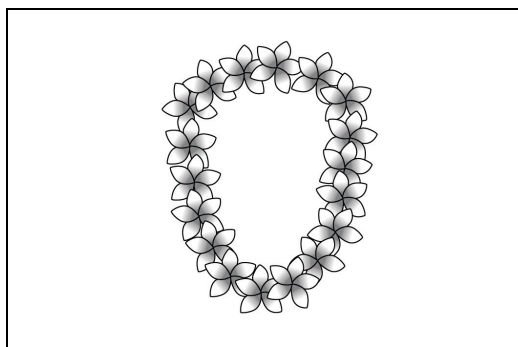
A



B



C



D

請勿在此書寫。

請勿在此書寫。

12. 這短片主要的信息是什麼？

介紹

- A. 雞蛋花的特點。
- B. 雞蛋花的種類。
- C. 種植雞蛋花的國家。
- D. 食用雞蛋花的好處。

— 全卷完 —

請勿在此書寫。

請勿在此書寫。

