




3	M	C	2
---	---	---	---



↑
請把電腦條碼貼在方格內

教育局
2026 年 全港性系統評估
小學三年級
數學

學生須知：

1. 在第 1、3、5、7 及 9 頁的適當位置貼上電腦條碼。
2. 全卷共有 33 題，全部題目均須作答。
3. 評估時限為 40 分鐘。
4. 答案必須書寫在答題簿中適當的位置內。
5. 不得在框線以外書寫任何文字、符號。
6. 不得使用計算機。
7. 算草應做在草稿紙上。
8. 在下面方格內填寫學校編號、班別及班號。

作答說明：

(a) 選擇題 - 選出正確的答案，並用 **HB** 鉛筆把該選項的圓圈塗黑和塗滿。如：

- A
- B
- C
- D

(b) 列式計算題 - 在方格內列寫橫式、答案、文字解說或題解，但毋須列寫算草。

(c) 其他類型題目 - 依題目的指示，在適當的位置作答。

學校編號

P			
---	--	--	--

班別

3	
---	--

班號

--	--

↑
此格只許填寫一個大楷英文字母

1. 下列哪個數中的「5」是在百位？

- A. 315
- B. 5 920
- C. 7 513
- D. 80 054

2. 用阿拉伯數字寫出「八萬三千零五」。


答案：_____

3. $138 + 342 + 276 =$ _____

4. $900 - 654 =$ _____

5. $127 - (35 + 48) =$ _____

請把電腦條碼貼在方格內 →



6. $52 \times 6 = \underline{\hspace{2cm}} \times 52$

7. $614 \div 3 =$

- A. 240...2
- B. 204...2
- C. 204
- D. 24...2

8.



電飯煲
799 元



碗
18 元

唐太太購買一個電飯煲和一個碗，

共須付 元。


請勿在此書寫。

請勿在此書寫。




9. 水果店有 7 箱橙，每箱橙有 105 個，水果店
共有 _____ 個橙。

10. 每個蘋果售 6 元。陳小姐付 100 元購買 8 個蘋果，
店員應找回多少元？
(列式計算)



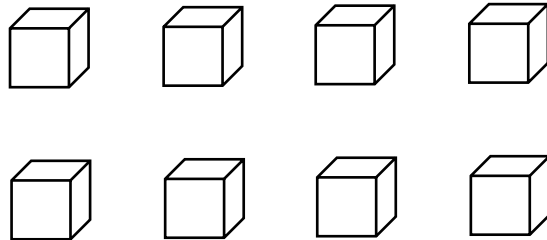
請把電腦條碼貼在方格內 →



11. 店員需要 8 個月餅來裝滿一個盒子。他有 97 個月餅，最多可裝滿盒子

- A. 12 個。
- B. 13 個。
- C. 89 個。
- D. 776 個。

12. 桌子上有 8 塊積木，紅色佔全部的 $\frac{3}{4}$ ，其餘的是藍色。

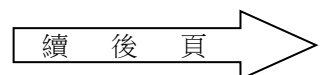


(a) 紅色積木有 _____ 塊。

(b) 藍色積木佔全部的 $\frac{\square}{\square}$ 。

請勿在此書寫。

請勿在此書寫。



13. 下列哪一項是正確的？

A. $9 < \frac{9}{9}$

B. $9 = \frac{9}{9}$

C. $9 > \frac{9}{9}$

D. 無法比較 9 和 $\frac{9}{9}$ 的大小。

14. 把下列分數由小至大排列。

$$\frac{3}{8}, \quad \frac{7}{8}, \quad \frac{3}{11}$$

答案：


,

,

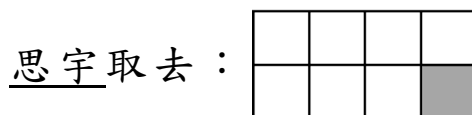
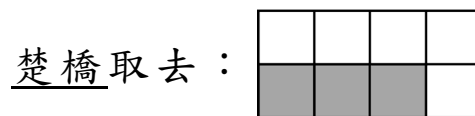
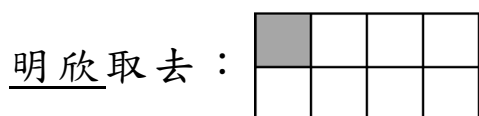
(最小)

(最大)

請把電腦條碼貼在方格內 →



15. 桌子上有一包糖果，明欣取去 $\frac{1}{8}$ 包，楚橋取去 $\frac{3}{8}$ 包，思宇取去 $\frac{1}{8}$ 包，三人共取去糖果多少包？




(列式計算)

請勿在此書寫。

請勿在此書寫。



16.



\$ 53.70

(a) 一罐曲奇餅的售價是 _____ 元 _____ 角。


(b) 子聰購買一罐曲奇餅。圈出他須付的金額。



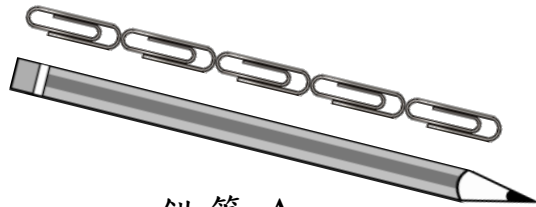
請勿在此書寫。

請勿在此書寫。

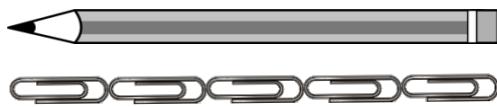
請把電腦條碼貼在方格內 →




17.



鉛筆 A



鉛筆 B



鉛筆 C

比較上圖三支鉛筆的長度。

最長的是鉛筆 * A / B / C 。

(*圈出答案)

18. 在橫線上填上適當的度量單位。


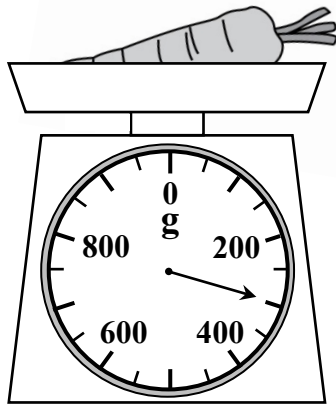
一個標準籃球架的高度約是 3 _____ 。


請勿在此書寫。

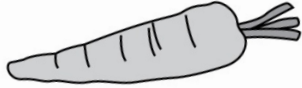

請勿在此書寫。



19.



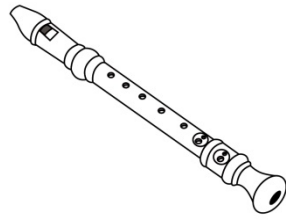
(a)  的重量是 _____ g。

(b)  比 

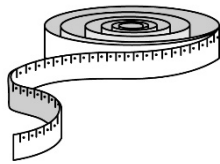
* 輕 / 重 _____ g。

(*圈出答案)

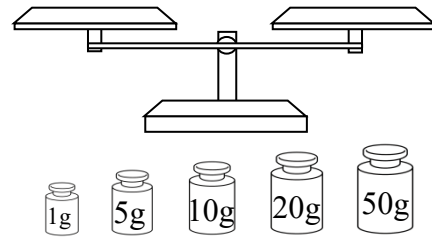
20.



下列哪一項最適合用來量度一支牧童笛的重量？



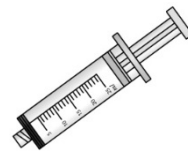
A.



B.



C.

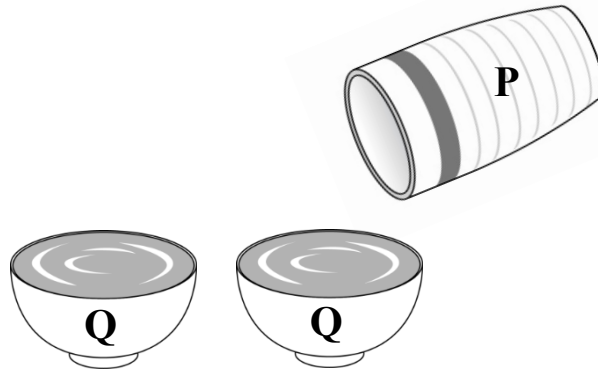


D.

請勿在此書寫。

請勿在此書寫。

21.

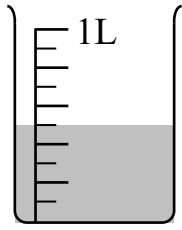


把容器 **P** 注滿水，然後把全部水分別倒進兩個空的容器 **Q** 裏，剛好注滿兩個容器 **Q**。


下列哪一項是正確的？

- A. 一個容器 **P** 的容量比一個容器 **Q** 的容量大。
- B. 一個容器 **P** 的容量比一個容器 **Q** 的容量小。
- C. 一個容器 **P** 和一個容器 **Q** 的容量相等。
- D. 無法比較容器 **P** 和容器 **Q** 的容量。

22.



剛好注滿



。



的容量是 _____ mL。

23. 以下是餅店製作蛋糕的時間表。

	開始時間
第一批	10:50
第二批	13:20
第三批	15:40

製作第三批蛋糕的開始時間是

* 上午 / 下午 _____ 時 _____ 分。

(*圈出答案)

24. 根據下面四月份的月曆，回答下列各題。

四月						
星期日	星期一	星期二	星期三	星期四	星期五	星期六
			1	2	3	4
5	6	7	8	9	10	11
12	13	14	15	16	17	18
19	20	21	22	23	24	25
26	27	28	29	30		

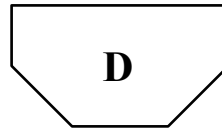
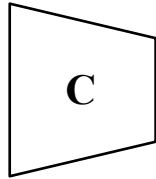
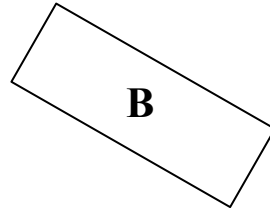
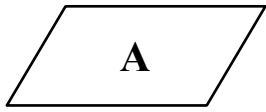
(a) 四月十七日是森美的生日，那天是

星期 _____。

(b) 森美由四月九日至四月十二日到北京旅行，

旅程共 _____ 天。

27. 觀察下列的平面圖形，寫出所有代表答案的英文字母。



列出：


(a) 梯形： _____

(b) 長方形： _____

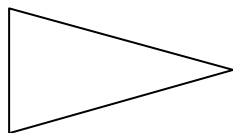
28. 下列哪個平面圖形是等邊三角形？



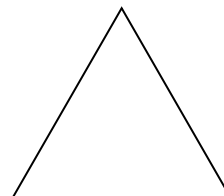
A.



B.

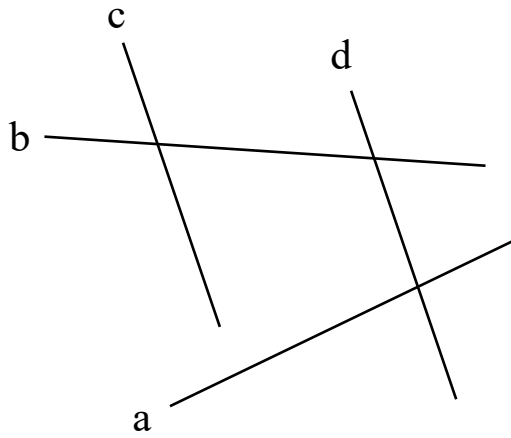


C.



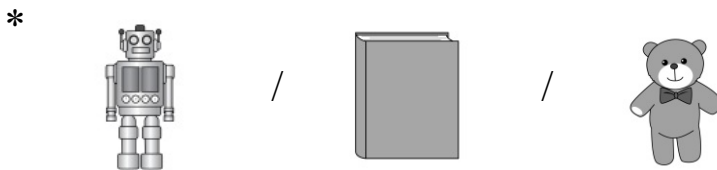

D.

29. 觀察下圖，寫出代表答案的英文字母。



直線 _____ 和 _____ 是一對平行線。

30. 李先生在架上擺放了一些物件。



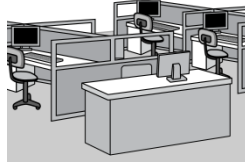
是在  和  之間。

(*圈出答案)

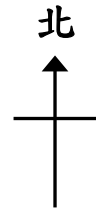
31. 下面是學校的地圖。



圖書館



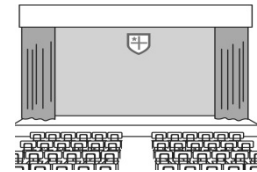
電腦室




音樂室



教員室



禮堂



課室

(a) 何老師從教員室向南方走，便到達

* 禮堂 / 電腦室 / 課室 。

(*圈出答案)

(b) 電腦室在圖書館的

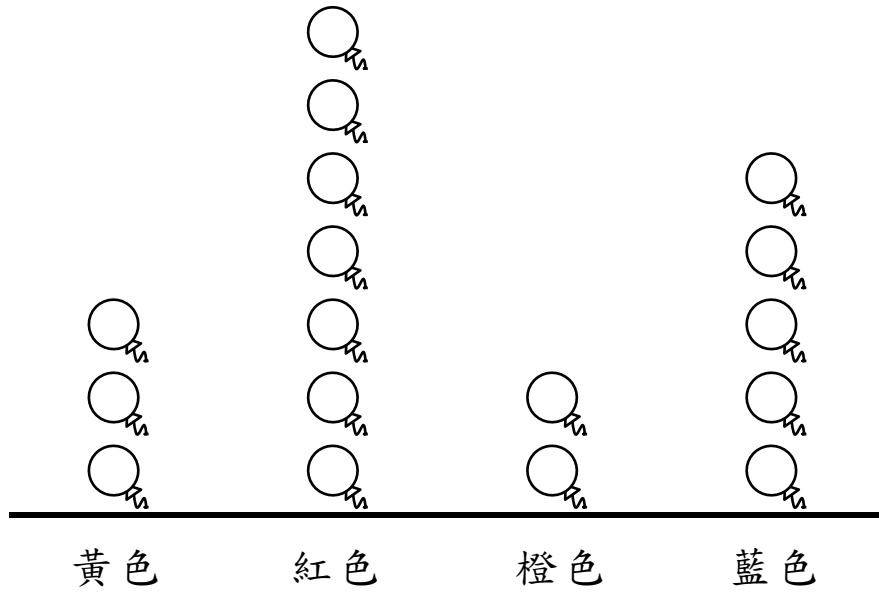
* 東方 / 南方 / 西方 / 北方 。

(*圈出答案)

32. 卓文統計了禮堂裏各種顏色氣球的數量。

禮堂裏各種顏色氣球的數量

每個  代表 1 個




- (a) 禮堂裏，_____ 氣球的數量最多，
有 _____ 個。
- (b) 橙色氣球的數量比藍色氣球的
* 多 / 少 _____ 個。
(*圈出答案)

33. 明輝統計了三年級老師最喜愛的食物種類。

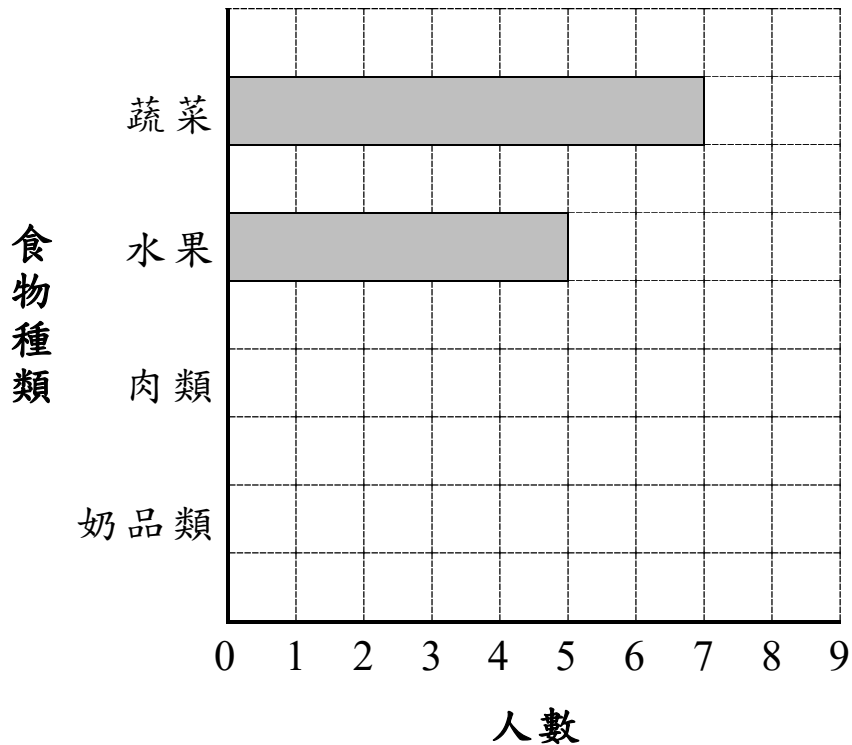
(a) 根據統計紀錄，完成下表。

食物種類	蔬菜	水果	肉類	奶品類
紀錄	正 丅	正	正 丅	丅
人數			4	3

(b) 根據統計結果，用鉛筆完成以下的棒形圖，並加上標題。



(標題)



— 全卷完 —