



3	M	C	3
---	---	---	---



↑
請把電腦條碼貼在方格內

教育局
2026 年 全港性系統評估
小學三年級
數學

學生須知：

1. 在第 1、3、5、7 及 9 頁的適當位置貼上電腦條碼。
2. 全卷共有 33 題，全部題目均須作答。
3. 評估時限為 40 分鐘。
4. 答案必須書寫在答題簿中適當的位置內。
5. 不得在框線以外書寫任何文字、符號。
6. 不得使用計算機。
7. 算草應做在草稿紙上。
8. 在下面方格內填寫學校編號、班別及班號。

作答說明：

(a) 選擇題 - 選出正確的答案，並用 **HB 鉛筆** 把該選項的圓圈塗黑和塗滿。如：

- A
- B
- C
- D

(b) 列式計算題 - 在方格內列寫橫式、答案、文字解說或題解，但毋須列寫算草。

(c) 其他類型題目 - 依題目的指示，在適當的位置作答。

學校編號

P			
---	--	--	--

班別


3	
---	--

班號

--	--

↑
此格只許填寫一個大楷英文字母

請把電腦條碼貼在方格內 →



請勿在此書寫。

4. $765 - 213 - 13 =$

A. 565

B. 552

C. 541

D. 539

5. $243 \times 4 =$ _____

6. $504 \div 9 =$ _____

7. $50 - 10 \times 2 =$ _____

8. 4 張門票共售 852 元，平均每張門票售 _____ 元。

請勿在此書寫。



9.



電飯煲
799 元



碗
18 元

唐太太購買一個電飯煲和一個碗，

共須付 _____ 元。

10.




雨衣
40 元 8 角



雨傘
75 元 9 角

一件雨衣比一把雨傘便宜 _____ 元 _____ 角。

請把電腦條碼貼在方格內 →



11. 美玲有 6 包貼紙，每包有 10 張。永健有 48 張貼紙，
他比美玲少 _____ 張。

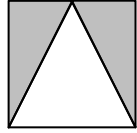
12. 列車上原有 276 人，到站後有 53 人下車，有 142 人
上車。列車上現有多少人？
(列式計算)

請勿在此書寫。

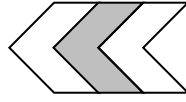
請勿在此書寫。



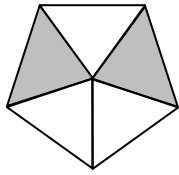
13. 下列哪個圖的陰影部分佔全圖的 $\frac{2}{3}$ ？




A.



B.



C.



D.

14. 下列哪一項是正確的？


A. $9 < \frac{9}{9}$

B. $9 = \frac{9}{9}$

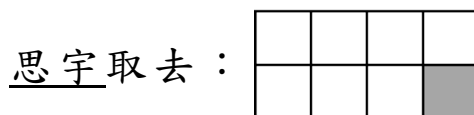
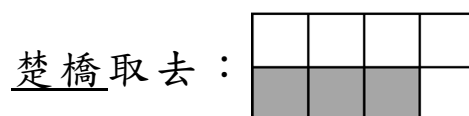
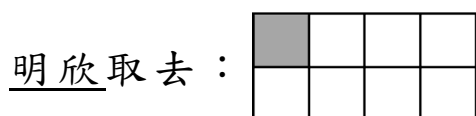
C. $9 > \frac{9}{9}$

D. 無法比較 9 和 $\frac{9}{9}$ 的大小。

請把電腦條碼貼在方格內 →



15. 桌子上有一包糖果，明欣取去 $\frac{1}{8}$ 包，楚橋取去 $\frac{3}{8}$ 包，思宇取去 $\frac{1}{8}$ 包，三人共取去糖果多少包？



(列式計算)

請勿在此書寫。

請勿在此書寫。

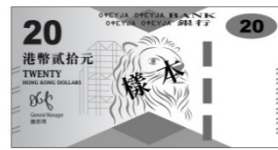


16. 社區中心有一些音樂會門票。成人票佔全部的 $\frac{1}{3}$ ，
兒童票佔全部的 $\frac{1}{6}$ ，長者票佔全部的 $\frac{1}{2}$ 。

最多的是 * 成人票 / 兒童票 / 長者票。

(*圈出答案)

17. 以下是德美購買圖書的款項：



德美付了 _____ 元 _____ 角購買圖書。

請把電腦條碼貼在方格內 →



18. 根據下面八月份的月曆，回答下列各題。

八月						
星期日	星期一	星期二	星期三	星期四	星期五	星期六
						1
2	3	4	5	6	7	8
9	10	11	12	13	14	15
16	17	18	19	20	21	22
23	24	25	26	27	28	29
30	31					

(a) 心悠在八月的第二個星期五參加跳舞比賽，

那天是 _____ 月 _____ 日。

(b) 心悠逢星期三參加一堂聲樂課，她八月份共

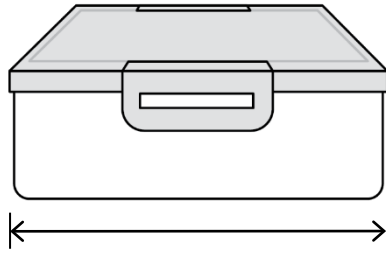
參加了 _____ 堂聲樂課。

請勿在此書寫。

請勿在此書寫。



19.



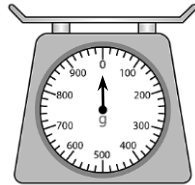
下列哪一項最適合用來量度一個餐盒的長度？



A.



B.



C.

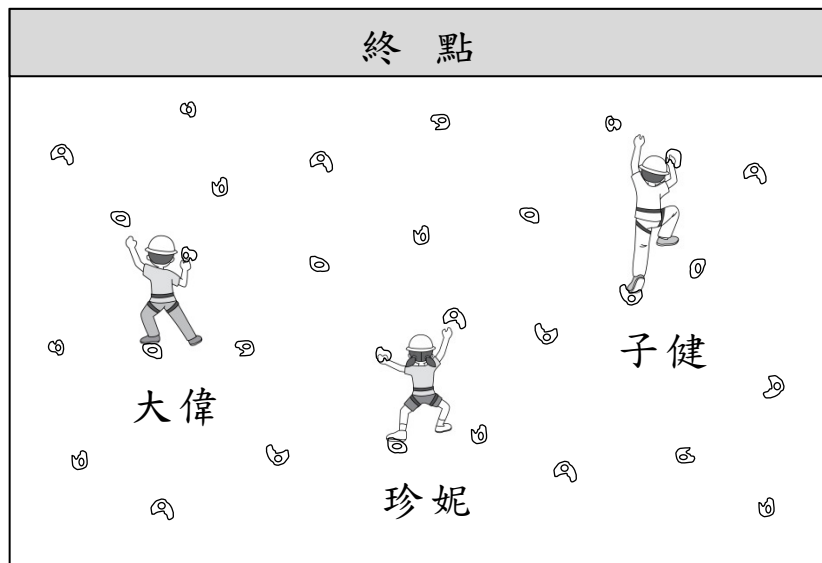


D.

請勿在此書寫。

請勿在此書寫。

20.



大偉、珍妮和子健參加爬石牆比賽。

根據上圖，最接近終點的是

* 大偉 / 珍妮 / 子健 。


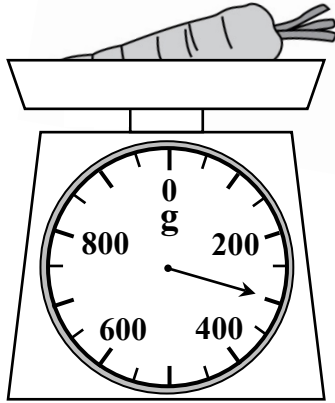
(*圈出答案)


21. 在橫線上填上適當的度量單位。

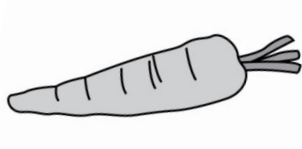

(a) 一個湯匙的容量約是 15 _____ 。

(b) 一部平板電腦的長度約是 24 _____ 。

22.



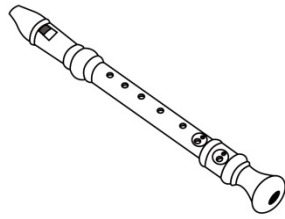
(a)  的重量是 _____ g。

(b)  比 

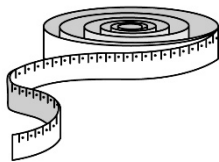
* 輕 / 重 _____ g。

(*圈出答案)

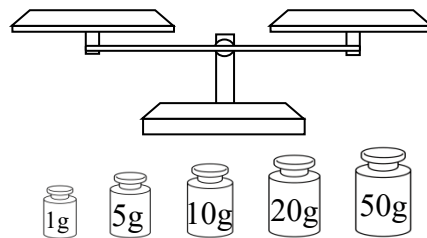
23.



下列哪一項最適合用來量度一支牧童笛的重量？



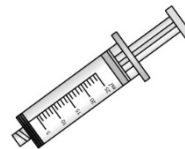
A.



B.



C.



D.

請勿在此書寫。


請勿在此書寫。

24.

盛滿水的

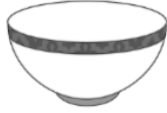


剛好注滿



。

盛滿水的



剛好注滿



。

盛滿水的



剛好注滿

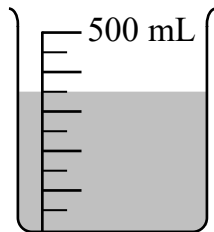
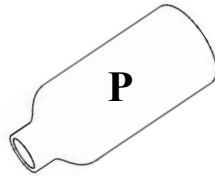
_____ 個

個



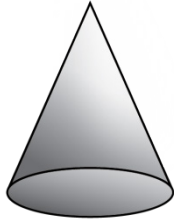
。

25. 把容器 P 注滿水，然後把全部水倒進空的量杯裏。

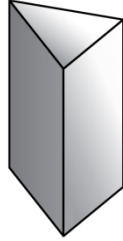


容器 P 的容量是 _____ mL。

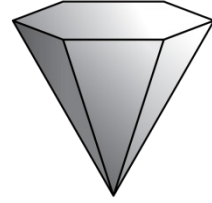
26. 觀察下列的立體圖形，寫出所有代表答案的英文字母。



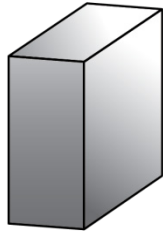
A.



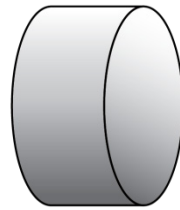
B.



C.



D.



E.

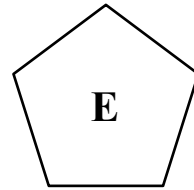
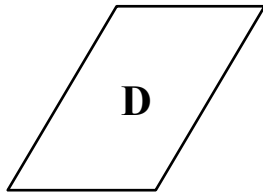
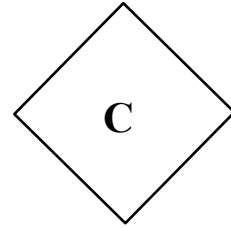
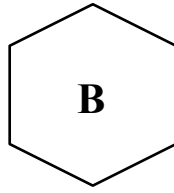
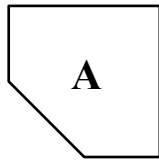
列出：

(a) 圓錐：_____

(b) 角柱：_____



27. 觀察下列的平面圖形，寫出所有代表答案的英文字母。

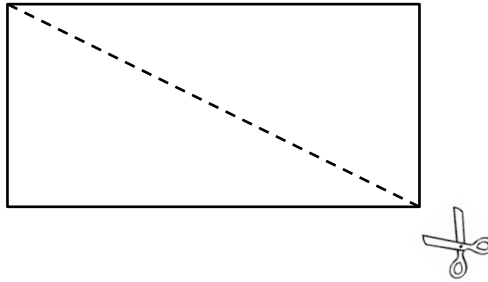


列出：

(a) 五邊形：_____

(b) 正方形：_____

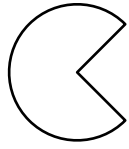
28.



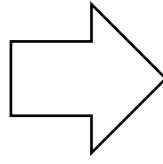
浩然沿虛線把上圖的長方形剪開後，得出兩個

- A. 等腰三角形。
- B. 等邊三角形。
- C. 直角三角形。
- D. 等腰直角三角形。


29. 觀察下列各圖，寫出所有代表答案的英文字母。



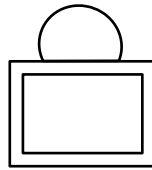
A.



B.



C.



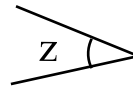
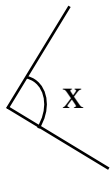
D.

列出：

(a) 只用曲線組成的圖：_____


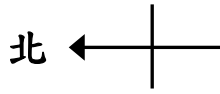
(b) 用直線和曲線組成的圖：_____

30. 細閱下圖，把 x 、 y 和 z 三個角由小至大排列出來。



答案： _____ ， _____ ， _____
 (最小) (最大)

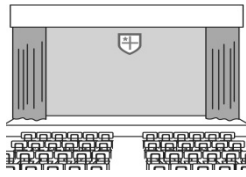
31. 下面是學校的地圖。



視藝室



音樂室




禮堂




教員室



圖書館



課室



電腦室

(a) 曉彤從教員室向

* 東方 / 南方 / 西方 / 北方 走，

便到達禮堂。 (*圈出答案)

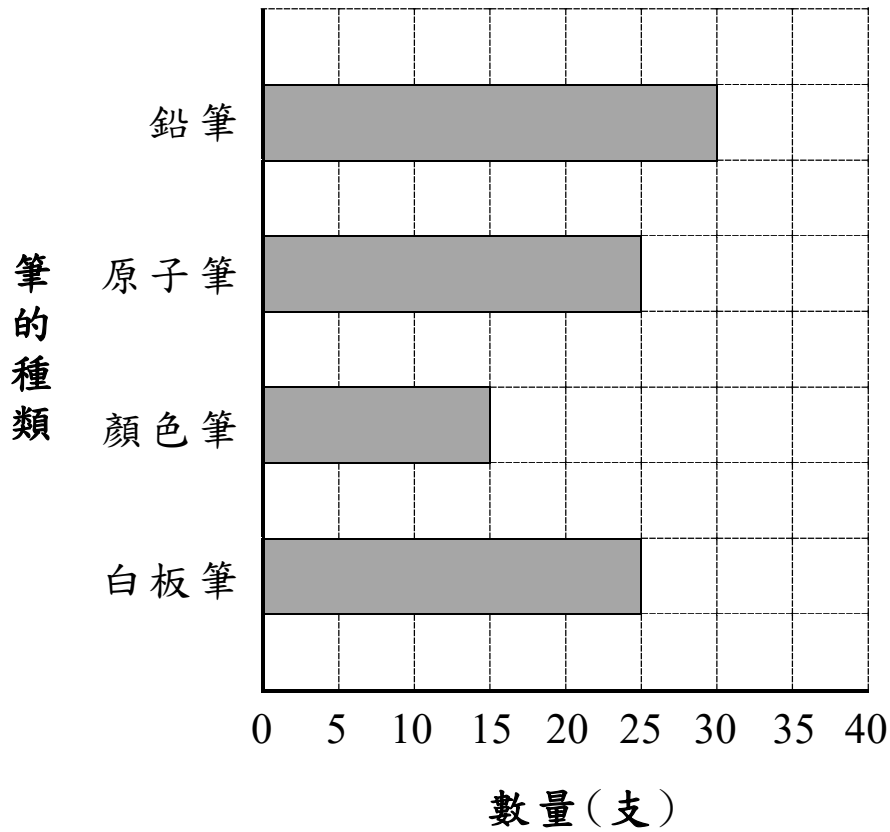
(b) 圖書館的西方是

* 電腦室 / 教員室 / 音樂室。

(*圈出答案)

32. 店員統計了文具店昨天售出各種筆的數量。

文具店昨天售出各種筆的數量



- (a) 文具店售出白板筆和 _____ 的數量相同，各有 _____ 支。
- (b) 文具店共售出 _____ 支鉛筆和顏色筆。

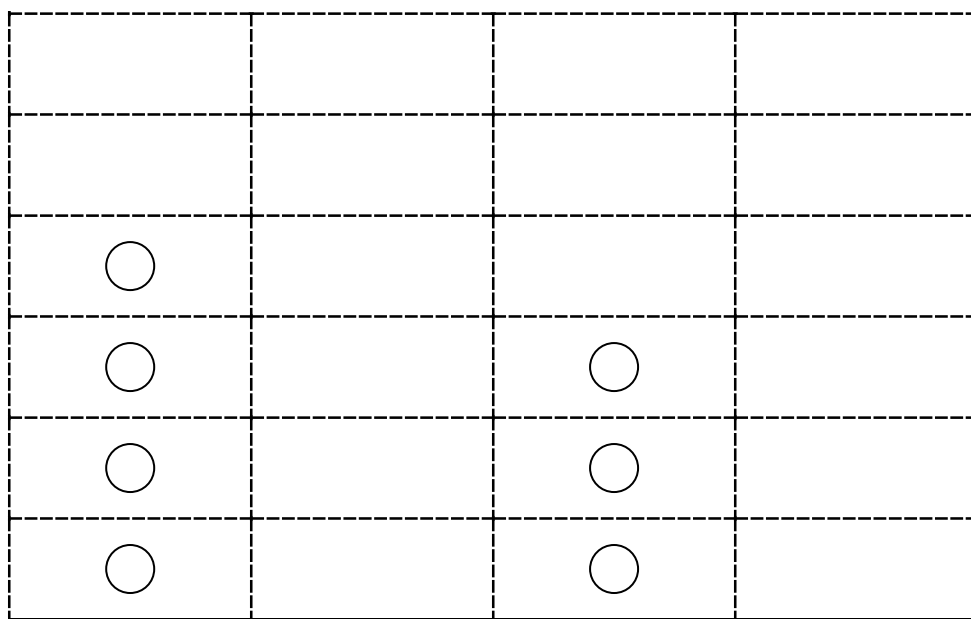
33. 店員統計了水果店裏各種水果的數量。

水果種類	橙	蘋果	香蕉	梨子
數量(箱)	4	5	3	2

根據統計結果，完成以下的象形圖，並加上標題。

(標題)

每個 ○ 代表 1 箱



蘋果

梨子

— 全卷完 —

請勿在此書寫。

請勿在此書寫。