



3	M	C	4
---	---	---	---



↑
請把電腦條碼貼在方格內

教育局
2026 年 全港性系統評估
小學三年級
數學

學生須知：

1. 在第 1、3、5、7 及 9 頁的適當位置貼上電腦條碼。
2. 全卷共有 33 題，全部題目均須作答。
3. 評估時限為 40 分鐘。
4. 答案必須書寫在答題簿中適當的位置內。
5. 不得在框線以外書寫任何文字、符號。
6. 不得使用計算機。
7. 算草應做在草稿紙上。
8. 在下面方格內填寫學校編號、班別及班號。

作答說明：

(a) 選擇題 - 選出正確的答案，並用 **HB** 鉛筆把該選項的圓圈塗黑和塗滿。如：

- A
- B
- C
- D

(b) 列式計算題 - 在方格內列寫橫式、答案、文字解說或題解，但毋須列寫算草。

(c) 其他類型題目 - 依題目的指示，在適當的位置作答。

學校編號

P			
---	--	--	--

班別

3	
---	--

班號

--	--

↑
此格只許填寫一個大楷英文字母

1. 根據下列指示，寫出一個五位數。

數字「7」是在百位，

數字「2」是在個位，

數字「0」是在千位，

數字「3」是在萬位，

數字「8」是在十位。

--	--	--	--	--

2. 把三個偶數由小至大排列如下：

• •

51 374

,

?

,

63 892


(最小)

(最大)

方格裏的數可能是

- A. 49 286。
- B. 54 198。
- C. 62 043。
- D. 72 580。

請把電腦條碼貼在方格內 →



3. 在 60 342 這個數裏，數字「6」表示的數值是

* 6 / 60 / 600 / 6 000 / 60 000 。

(*圈出答案)

4. $453 + 197 =$ _____

5. $679 - 185 - 237 =$ _____

6. $2 \times 69 \times 5 =$ _____

7. $724 \div 6 =$

A. 12...4

B. 104

C. 120

D. 120...4

請勿在此書寫。

請勿在此書寫。

8. $43 + 7 \times 9 =$

- A. 50
 B. 63
 C. 106
 D. 450

9. 伯傑昨天玩數學遊戲獲得 258 分，今天比昨天少得 146 分，他今天獲得 _____ 分。

10. 4 張門票共售 852 元，平均每張門票售 _____ 元。

11.




雨衣
40 元 8 角



雨傘
75 元 9 角

一件雨衣比一把雨傘便宜 _____ 元 _____ 角。

請把電腦條碼貼在方格內 →



12. 子怡原有 5 包氣球，每包氣球有 3 個。哥哥送了 14 個氣球給她後，子怡現有氣球多少個？

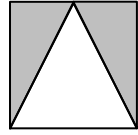
(列式計算)

請勿在此書寫。

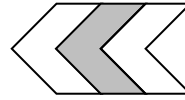
請勿在此書寫。



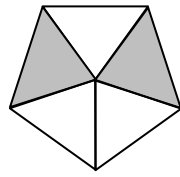
13. 下列哪個圖的陰影部分佔全圖的 $\frac{2}{3}$ ？




A.



B.



C.

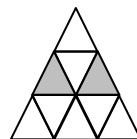
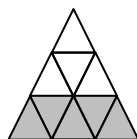
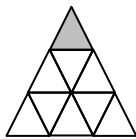


D.

14. 在空格內填上適當的數字。


$$\frac{2}{5} \text{ 比 } \frac{2}{\square} \text{ 大。}$$

15.



$$\frac{1}{9} + \frac{5}{9} + \frac{2}{9} = \frac{\square}{\square}$$


請把電腦條碼貼在方格內 →




16. 玲玲喝了 $\frac{5}{10}$ 盒果汁，小林喝了 $\frac{2}{10}$ 盒果汁，

玲玲比小林多喝果汁多少盒？

玲玲喝了：



小林喝了：



(列式計算)

請勿在此書寫。

請勿在此書寫。



17.



\$ 8.40

(a) 一個蛋糕的售價是 _____ 元 _____ 角。

(b) 志康付  購買一個蛋糕。


圈出店員須找回的金額。



請勿在此書寫。

請勿在此書寫。

請把電腦條碼貼在方格內 →



18. 根據下面八月份的月曆，回答下列各題。

八月						
星期日	星期一	星期二	星期三	星期四	星期五	星期六
						1
2	3	4	5	6	7	8
9	10	11	12	13	14	15
16	17	18	19	20	21	22
23	24	25	26	27	28	29
30	31					

(a) 心悠在八月的第二個星期五參加跳舞比賽，

那天是 _____ 月 _____ 日。

(b) 心悠逢星期三參加一堂聲樂課，她八月份共

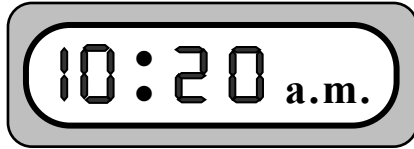
參加了 _____ 堂聲樂課。

請勿在此書寫。

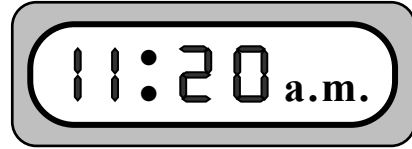
請勿在此書寫。



19. 李先生到診所看醫生。以下兩個鐘面顯示他的到達時間和離開時間。



到達時間



離開時間

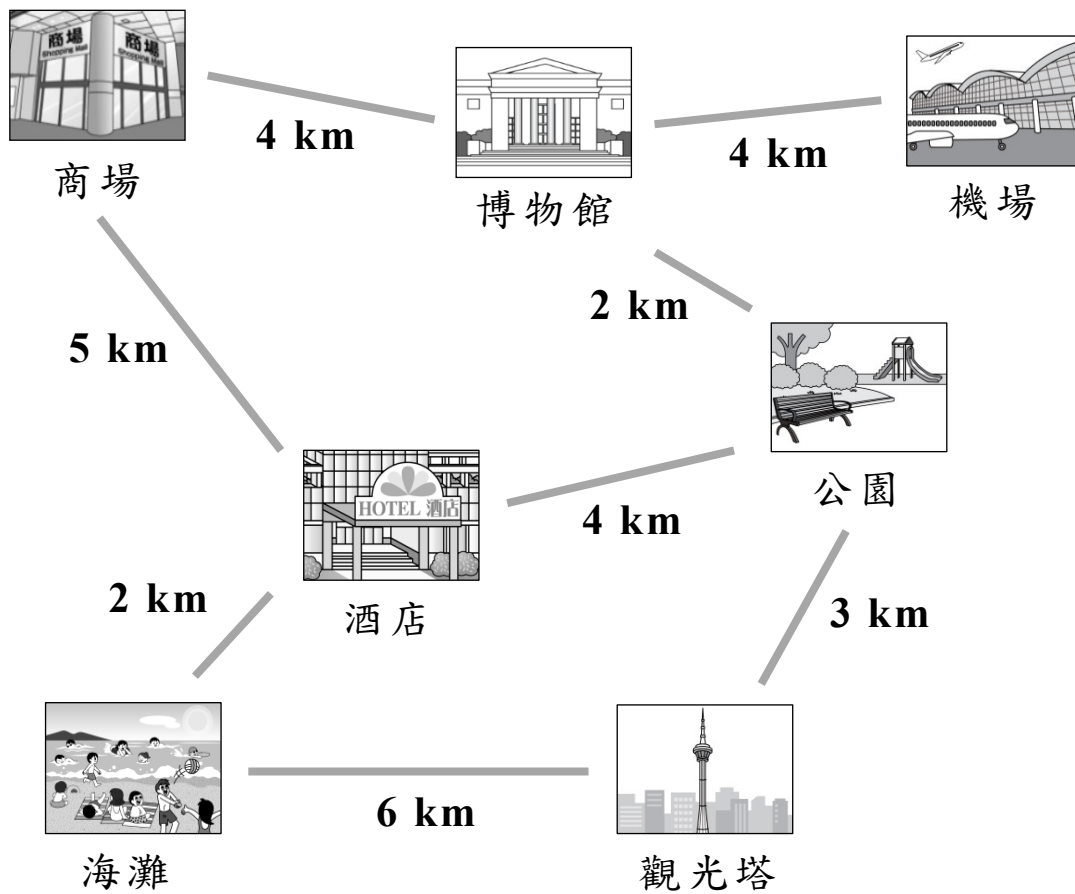
- (a) 李先生的到達時間是

* 上午 / 下午 _____ 時 _____ 分。

(*圈出答案)

- (b) 李先生在診所逗留了 _____ 小時。

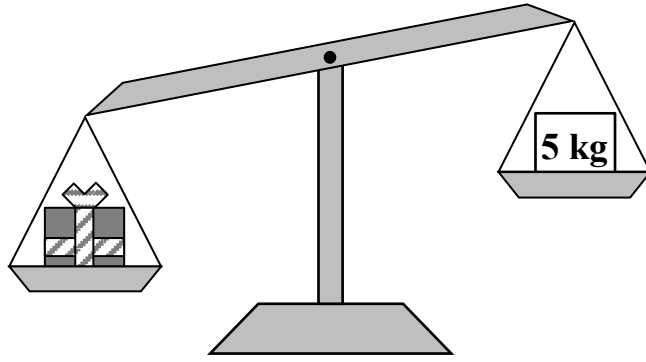
20. 細閱下圖，把答案寫在橫線上。



(a) 由機場經博物館和 _____ 前往
酒店，只需走 10 km。

(b) 由酒店去觀光塔，最短的路程要走 _____ km。

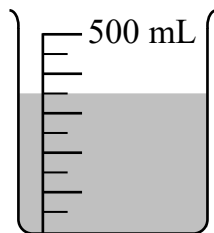
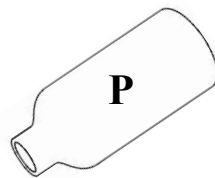
21.



的重量可能是

- A. 6 kg。
- B. 5 kg。
- C. 4 kg。
- D. 3 kg。

22. 把容器 P 注滿水，然後把全部水倒進空的量杯裏。



容器 P 的容量是 _____ mL。


23. 在橫線上填上適當的度量單位。

一隻蛋的重量約是 60 _____。

24.



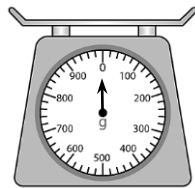
下列哪一項最適合用來量度一個牛奶瓶的容量？




A.



B.

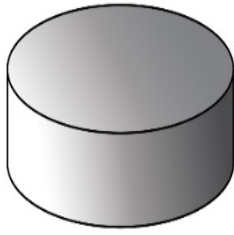


C.



D.

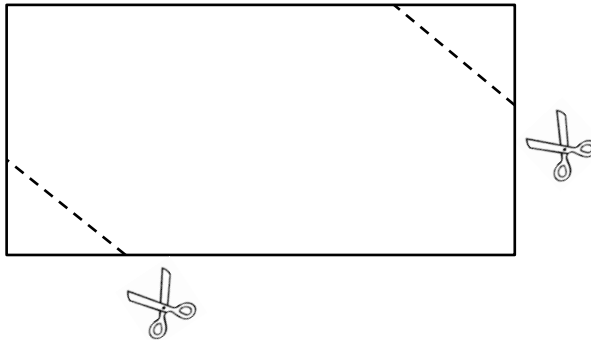
25.



上面的立體圖形是一個

- A. 圓柱。
- B. 圓錐。
- C. 圓形。
- D. 球。

26.

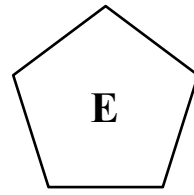
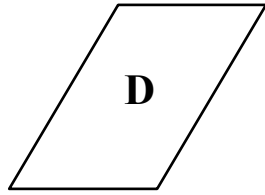
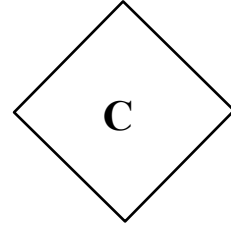
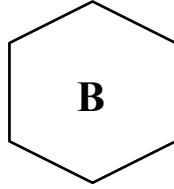
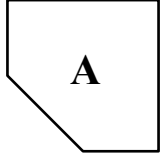


芷珊沿虛線把上圖的長方形剪開後，得出兩個三角形

和一個 * 六邊形 / 平行四邊形 / 長方形。

(*圈出答案)

27. 觀察下列的平面圖形，寫出所有代表答案的英文字母。



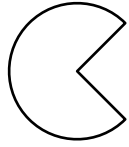
列出：

(a) 五邊形：_____

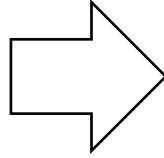
(b) 正方形：_____




28. 觀察下列各圖，寫出所有代表答案的英文字母。



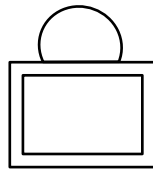
A.



B.



C.



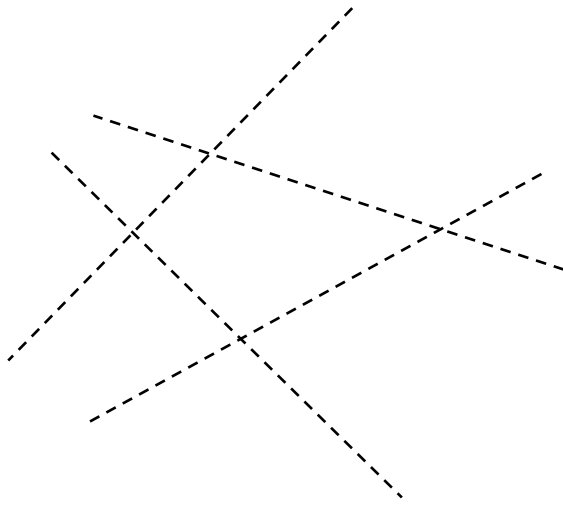
D.

列出：

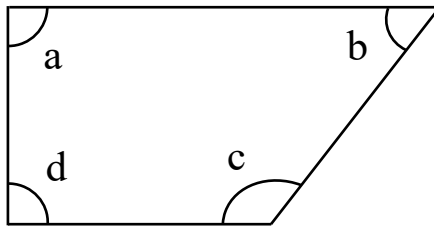
(a) 只用曲線組成的圖： _____

(b) 用直線和曲線組成的圖： _____

29. 在下圖中，沿着虛線畫出一對垂直線。



30. 觀察下面的平面圖形，寫出所有代表答案的英文字母。




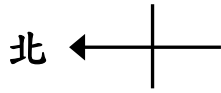
列出：

(a) 直角：_____

(b) 鈍角：_____



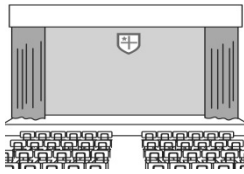
31. 下面是學校的地圖。



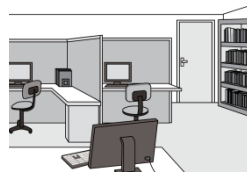
視藝室



音樂室




禮堂



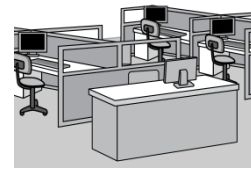
教員室



圖書館



課室



電腦室

(a) 曉彤從教員室向

* 東方 / 南方 / 西方 / 北方 走，

便到達禮堂。 (*圈出答案)

(b) 圖書館的西方是

* 電腦室 / 教員室 / 音樂室。

(*圈出答案)

32. 陳老師統計了三年級各班參加足球隊的人數。

三年級各班參加足球隊的人數

每個  代表 1 人



- (a) 參加足球隊人數最少的班別是 _____ 班，
有 _____ 人。

- (b) 三年級全級共有 _____ 人參加足球隊。

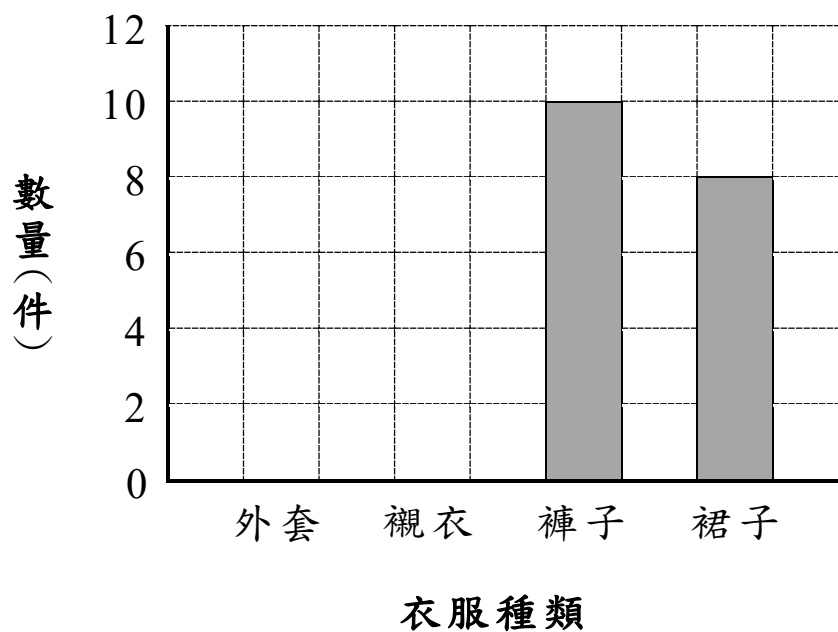
33. 小美統計了家裏各種衣服的數量。

衣服種類	外套	襯衣	褲子	裙子
數量(件)	4	6	10	8

根據統計結果，用鉛筆完成以下的棒形圖，並加上標題。



(標題)



— 全卷完 —

請勿在此書寫。

請勿在此書寫。