




6	C	A	V	2
---	---	---	---	---



↑
請把電腦條碼貼在方格內

教育局
2026 年 全港性系統評估◆
小學六年級
中國語文
閱讀及聆聽——視聽資訊評估

學生須知：

1. 在第 1 及 3 頁的適當位置貼上電腦條碼。
2. 本卷共有 13 題，全部題目均須作答，評估時限約 15 分鐘。
3. 必須在答題簿內的適當位置作答。
4. 不得在框線以外書寫任何文字、符號。
5. 在下面方格內填寫學校編號、班別及班號。

作答說明：

選擇題 – 選出正確的答案，並用 **HB 鉛筆** 把該選項的圓圈塗黑和塗滿。如：

例子：

- A
○ B
○ C (四選一)
○ D

學校編號	P				班別	6		班號		
------	---	--	--	--	----	---	--	----	--	--

↑
此格只許填寫一個大楷英文字母

◆2026 年小六全港性系統評估暫停舉行。此評估是學校以自願形式參與，而非全體小六學生參與的全港性系統評估。

第一部分

可在此欄摘記要點

請細心觀看短片(一)，然後回答第 1—6 題。

1. 環境保護署為什麼引入「採樣無人潛水艇」這項新科技？
 - A. 減少河道的污染。
 - B. 展示創新科技成果。
 - C. 全面取代傳統調查方法。
 - D. 協助調查複雜和危險的個案。


2. 根據短片內容，調查「白色污水」投訴個案的難處是什麼？
 - A. 河道支流太多。
 - B. 垃圾太多，阻塞河道。
 - C. 相關渠蓋位於高速公路上。
 - D. 污染物沒有顏色，難以辨認。

3. 根據李女士的介紹，環境保護署找到「白色污水」污染源頭的步驟是
 - ① 進入渠道 80 多米
 - ② 查閱渠務系統圖則
 - ③ 派出「採樣無人潛水艇」
 - A. ②→①→③
 - B. ②→③→①
 - C. ③→①→②
 - D. ③→②→①


請勿在此書寫。

請勿在此書寫。


請把電腦條碼貼在方格內 →




4. 下列哪一幅圖畫符合「採樣無人潛水艇」的外觀？




A.



B.



C.



D.

可在此欄摘記要點

請勿在此書寫。

請勿在此書寫。

5. 根據短片內容，下列哪一項不是環境保護署改善城門河水質的方法？

- A. 定期檢測城門河水質。
- B. 監察珊瑚的遷移情況。
- C. 政府展開跨部門協作。
- D. 落實多項污染管制措施。

6. 這段短片的主要內容是什麼？

- A. 說明治理城門河污染的歷史。
- B. 讚揚環境保護署積極保育珊瑚。
- C. 指出「採樣無人潛水艇」的操作方法。
- D. 介紹「採樣無人潛水艇」在環保上的應用。

第二部分

可在此欄摘記要點

請細心觀看短片(二)，然後回答第 7—13 題。

7. 康樂及文化事務署為什麼要舉辦「花悅滿城」這項活動？

- A. 優化香港的城市景觀。
- B. 讓大眾參與種植活動。
- C. 展示花藝擺設的最新潮流。
- D. 讓市民感受慶回歸的熱烈氣氛。

8. 下列哪一項不是「姹紫嫣紅耀香港」花海設計所反映的香港特色？

- A. 多姿多采。
- B. 文化多元。
- C. 靈活包容。
- D. 歷史悠久。


請勿在此書寫。

請勿在此書寫。


9. 百日菊的花語代表什麼？

- A. 永恆真摯的愛。
- B. 天長地久和步步高升。
- C. 思念、青春和花樣年華。
- D. 堅貞、青春常在和愉快的回憶。


10. 根據短片內容，下列哪一幅圖畫符合石先生介紹的花牆設計？




A.



B.



C.



D.

請勿在此書寫。

請勿在此書寫。

11. 根據短片內容，「花悅滿城」計劃所選擇的場地有什麼共通點？

- A. 陽光充沛，適宜種植。
- B. 環境清幽，景色怡人。
- C. 交通便利，容易到達。
- D. 地方寬敞，設施完備。

12. 下列哪一個公園的園景設計是以「生日」為主題？

- A. 沙田公園。
- B. 九龍公園。
- C. 大埔海濱公園。
- D. 維多利亞公園。

13. 這段短片的主要內容是什麼？

- A. 推廣香港十八區的旅遊景點。
- B. 宣傳「花悅滿城」的活動內容。
- C. 介紹香港綠化工程的歷史和貢獻。
- D. 說明「花悅滿城」籌辦時所遇到的困難。

— 全卷完 —

