




9	M	C	3	(A)
---	---	---	---	---	---	---



↑
請把電腦條碼貼在方格內

教育局
2026 年全港性系統評估
中學三年級數學
答題簿

學生須知：

1. 在本頁的適當位置填寫學校編號、班別及班號。
2. 在第 1 頁及第 3 頁的適當位置貼上電腦條碼。
3. 評估時限為 65 分鐘。
4. 所有答案必須書寫在本答題簿中適當的位置內。
5. 不得在各頁邊界以外位置書寫任何文字、符號。
6. 除特別指明外，數值答案須用真確值，或準確至三位有效數字的近似值表示。
7. 可使用香港考試及評核局核准之計算機。
8. 算草應做在草稿紙上。

學校編號

S

班別

3

班號

↑
此格只許填寫一個大楷英文字母

甲部：多項選擇題

多項選擇題 - 選出正確的答案，並用 **HB 鉛筆** 把該選項的圓圈塗黑和塗滿，如：

A	B	C	D
<input checked="" type="radio"/>	<input type="radio"/>	<input type="radio"/>	<input type="radio"/>

1. A B C D
2. A B C D
3. A B C D
4. A B C D
5. A B C D
6. A B C D
7. A B C D
8. A B C D
9. A B C D
10. A B C D

請勿在此書寫。

請勿在此書寫。

請把電腦條碼貼在方格內 →



請勿在此書寫。

11. A B C D

12. A B C D

13. A B C D

14. A B C D

15. A B C D

16. A B C D

17. A B C D

18. A B C D

19. A B C D

20. A B C D

請勿在此書寫。

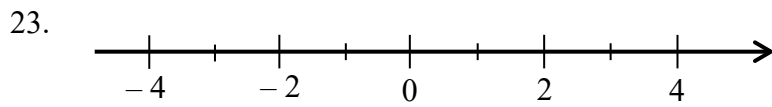


乙部： 答案須寫在預留的位置內。 無須列出算式。

21. (i) _____ cm

(ii) _____ cm

22. _____



24. 盈利百分率是 _____ 。

25. $x =$ _____

26. _____

27. _____

28. _____

29. _____

30. _____

31. $a =$ _____

請勿在此書寫。

請勿在此書寫。

32. $x =$ _____

33. _____

34. $MN =$ _____ 單位

35. $\theta =$ _____

36.

表一	
完成時間 (秒)	頻數
1 – 8	
9 – 16	
17 – 24	3
25 – 32	
33 – 40	

表二	
完成時間少於 (秒)	累積頻數
10.5	
20.5	9
30.5	
40.5	20

37. (a) 該運動員在上星期共跑了 _____ 公里。

(b) 該運動員在上星期共有 _____ 天進行了高強度訓練。

38. 平均數 = _____ 分鐘

眾數 = _____ 分鐘

39. 該眾數組是 \$ _____ - \$ _____。

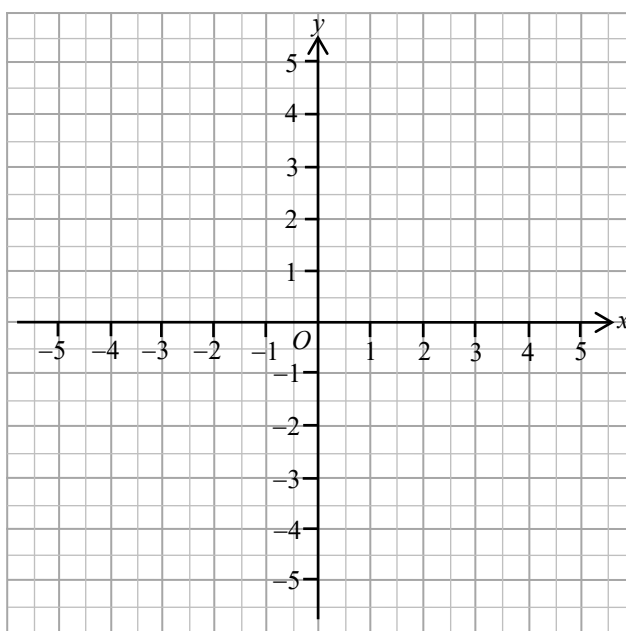
丙部：在預留的空位內作答。必須清楚列寫算式及題解。

40.

41.

$$y = \frac{2}{3}x - 2$$

x	-3	0	3
y		-2	



42.

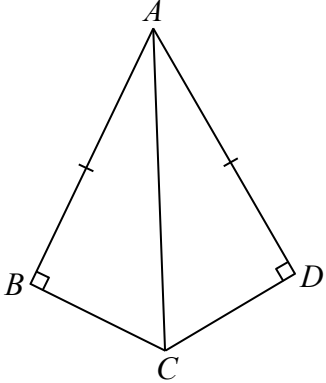
請勿在此書寫。

請勿在此書寫。

請勿在此書寫。

43.

44.

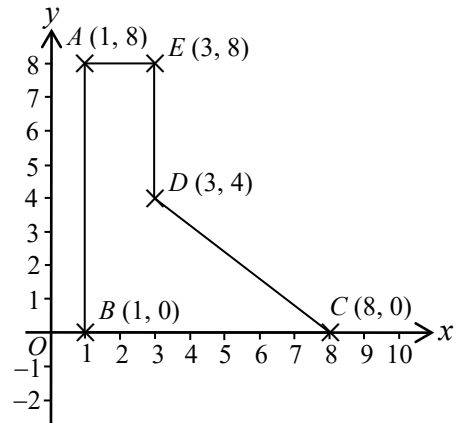


45.

請勿在此書寫。

請勿在此書寫。

46.



請勿在此書寫。

47. (a)

		小食			
		西多士(F)	漢堡包(H)	炸雞腩(L)	燒雞翼(W)
飲品	咖啡(C)	CF			CW
	奶茶(T)		TH	TL	TW

(b) 所求的概率是 _____。

全卷完