




\* 9 M C 4 \*

9	M	C	4	(	A	)
---	---	---	---	---	---	---



↑  
請把電腦條碼貼在方格內

教育局  
2026 年全港性系統評估  
中學三年級數學  
答題簿

學生須知：

1. 在本頁的適當位置填寫學校編號、班別及班號。
2. 在第 1 頁及第 3 頁的適當位置貼上電腦條碼。
3. 評估時限為 65 分鐘。
4. 所有答案必須書寫在本答題簿中適當的位置內。
5. 不得在各頁邊界以外位置書寫任何文字、符號。
6. 除特別指明外，數值答案須用真確值，或準確至三位有效數字的近似值表示。
7. 可使用香港考試及評核局核准之計算機。
8. 算草應做在草稿紙上。

學校編號

S

班別

3

班號

↑  
此格只許填寫一  
個大楷英文字母

甲部：多項選擇題

多項選擇題 - 選出正確的答案，並用 **HB 鉛筆** 把該選項的圓圈塗黑和塗滿，如：

A	B	C	D
<input checked="" type="radio"/>	<input type="radio"/>	<input type="radio"/>	<input type="radio"/>

1. A B C D
2. A B C D
3. A B C D
4. A B C D
5. A B C D
6. A B C D
7. A B C D
8. A B C D
9. A B C D
10. A B C D

請勿在此書寫。

請勿在此書寫。

請把電腦條碼貼在方格內 →



請勿在此書寫。

11. A B C D

12. A B C D

13. A B C D

14. A B C D

15. A B C D

16. A B C D

17. A B C D

18. A B C D

19. A B C D

20. A B C D

請勿在此書寫。



乙部： 答案須寫在預留的位置內。 無須列出算式。

21. \_\_\_\_\_

22. (i) \_\_\_\_\_ cm

(ii) \_\_\_\_\_ cm

23.  $a =$  \_\_\_\_\_

24. 盈利百分率是 \_\_\_\_\_ 。

25. 甲隊球迷人數：該兩隊球迷總人數 = \_\_\_\_\_ :

26. 該數列第 4 項的值是 \_\_\_\_\_ 。

27. \_\_\_\_\_

28. \_\_\_\_\_

29. \_\_\_\_\_

30.  $W =$  \_\_\_\_\_

31. \_\_\_\_\_

32. 該球形的體積是 \_\_\_\_\_  $\text{cm}^3$  。

33.  $x =$  \_\_\_\_\_

請勿在此書寫。

請勿在此書寫。

34.  $x =$  \_\_\_\_\_

35.  $x =$  \_\_\_\_\_

36. 小徑  $AB$  的斜率是 \_\_\_\_\_ 。

37. (a)

每天 降雨量 (mm)	0 – 15	15 – 30	30 – 45	45 – 60	60 – 75	75 – 90	90 – 105
頻數		6		7	4	4	

(b) 七月份有 \_\_\_\_\_ 天的降雨量不少於 75 mm 。

(c) 七月份每天降雨量的眾數組是 \_\_\_\_\_ mm – \_\_\_\_\_ mm 。

38. 平均數 = \_\_\_\_\_ 分鐘

眾數 = \_\_\_\_\_ 分鐘

39. 所求的相對頻數 = \_\_\_\_\_



請勿在此書寫。

43.

-----

-----

-----

-----

-----

-----

-----

-----

44.

-----

-----

-----

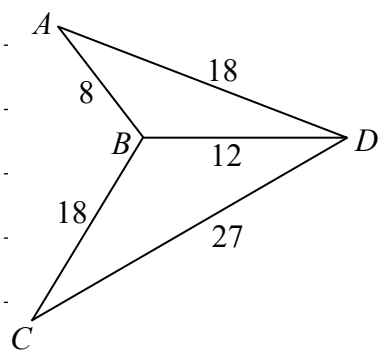
-----

-----

-----

-----

-----



-----

45.

-----

-----

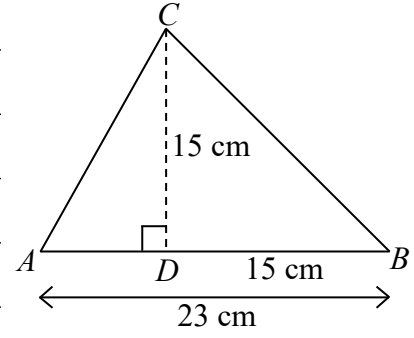
-----

-----

-----

-----

-----



-----

請勿在此書寫。

請勿在此書寫。

46.

-----

-----

-----

-----

-----

-----

-----

-----

47.

(a)

金額(\$)	1 – 40	41 – 80	81 – 120	121 – 160	161 – 200
組中點		60.5		140.5	
頻數	5	7	6	4	3

(b)

-----

-----

-----

-----

-----

-----

-----

-----

-----

全卷完

請勿在此書寫。